

桃園市立武漢國中 111 學年度第一學期 9 年級社會科補考題庫

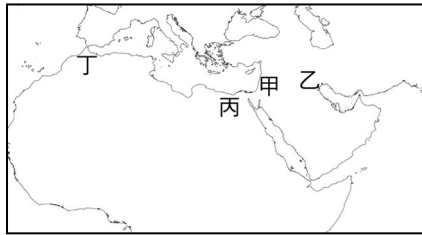
命題教師：社會領域教師

範圍：歷地公(L5、L6)(讀卡)

____年____班____號 姓名：

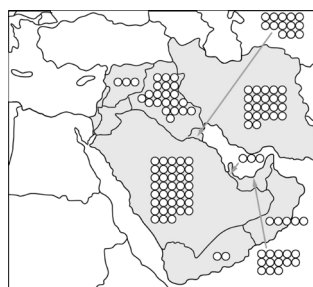
一、單一選擇題

- () 1. 下列哪一個國家「不屬於」西亞國家？
 (A)埃及 (B)土耳其 (C)伊拉克 (D)沙烏地阿拉伯
- () 2. 下圖所在區域因氣候條件不同而發展出不同的用水技術以及農業型態。請問：下列敘述何者正確？

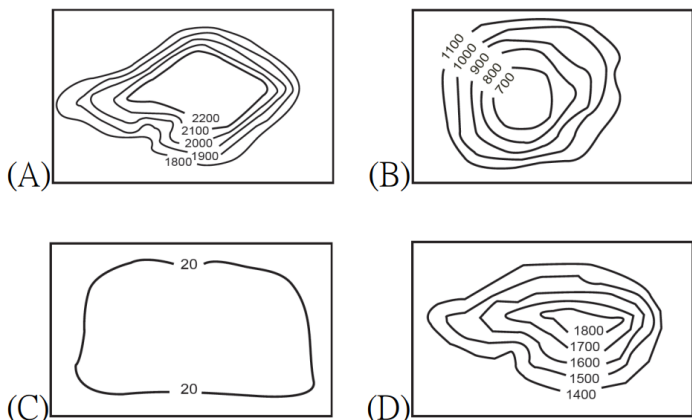


- (A)甲區發展坎井水資源運輸 (B)乙區發展出點狀綠洲
 (C)丙區發展出點狀綠洲 (D)丁區發展坎井水資源運輸
- () 3. 吳博士前往西亞地區的伊朗、沙烏地阿拉伯、以色列、土耳其等國家旅遊。在行程中，「無法」參觀到下列何種農業型態？
 (A)綠洲農業 (B)熱帶栽培業
 (C)灌溉農業 (D)地中海型農業
- () 4. 金字塔是西亞北非地區重要的古文明，當地人民仰賴的是水源氾濫之後帶來的淤泥發展農業。請問：此古文明位於哪一個地形區？
 (A)阿拉伯高原 (B)尼羅河三角洲
 (C)高加索山區 (D)美索不達米亞平原。
- () 5. 某組織成立目的是為了維護會員國利益，並維持出口產品的價格及產量水準。請問：由上述國家組合而成的組織，其名稱為何？
 (A) 世界貿易組織 WTO
 (B) 東南亞國家協會 ASEAN
 (C) 石油輸出國家組織 OPEC
 (D) 亞太經濟合作會議 APEC。

- () 6. 附圖為西亞地區石油資源的分布圖，圖上符號○的個數代表其數量的多寡。由此判斷，選項中哪個國家的石油蘊藏量最多？
 (A)埃及 (B)伊朗
 (C)科威特 (D)沙烏地阿拉伯



- () 7. 哪幅等高線地形圖能代表西亞地區的地形主體？



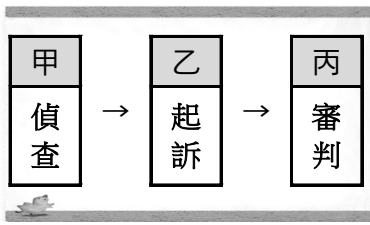
- () 8. 西亞當地的景觀單調、植物稀少。造成此種景色的主要原因為何？

- (A)距海遙遠 (B)缺少季風帶來水氣
 (C)高山圍繞 (D)副熱帶高氣壓籠罩
- () 9. 部分西亞國家因石油開採而財富大增，同時因開採石油及國家建設需要大量勞工與技術人員，因此引進許多國際移工。請問：哪些地區的國際移工來此工作時，可能因宗教文化相似較容易適應生活環境？
 (A)泰國 (B)印尼
 (C)菲律賓 (D)印度
- () 10. 許多來臺灣工作的東南亞移工會在手機中安裝一款 APP，該款 APP 的功能類似於地圖要素的方向標，但它並不是指向北方，而是會隨著你在不同地區而指向不同方位，以利使用者朝特定位置作禮拜。請問：在台灣的移工朋友若打開該款 APP，「方向標」應該會約略指向何方？
 (A)東 (B)南 (C)西 (D)北
- () 11. 下列何者是以色列與巴勒斯坦間，最可能因那些宗教的差異而在社會中產生歧異？
 (A)猶太教、道教 (B)佛教、伊斯蘭教
 (C)猶太教、伊斯蘭教 (D)天主教、猶太教
- () 12. 附圖是某種食品的標章，何種信仰的人以食用此種標章的食物為主？
 (A)佛教 (B)印度教
 (C)基督教 (D)伊斯蘭教



- () 13. 兩河流域是西亞最富庶的農業區，其農業發展較西亞其他地區興盛的最大優勢為何？
 (A)生長季長 (B)日照充足
 (C)灌溉便利 (D)降水量充沛
- () 14. 連鎖經營的跨國企業，應考量在地的文化特色，推出適宜當地傳統習俗的商品。因此，在阿拉伯的國家，麥當勞餐廳中不會看到哪一項產品？
 (A)勁辣雞腿堡 (B)豬肉滿福堡
 (C)麥香魚漢堡 (D)雙層牛肉吉士堡
- () 15. 有別於東亞國家多「以農立國」，西亞的阿拉伯人很早就靠著貿易發展經濟，商人們組織商隊，長途跋涉進行商業活動，運送絲綢、奢侈品等，賺進了大筆財富，在小說、電影中也常能看到駱駝商隊的鮮明形象。請問：阿拉伯國家之所以很早就有高度的貿易行為，與當地何種優越條件有關？
 (A)長久的伊斯蘭教傳統 (B)蘊藏豐富的石油資源
 (C)單一廣大的平原地形 (D)鄰近三洲的過度位置
- () 16. 文化大革命後，中國面臨整體經濟停滯不前、生產意願低落等困境，導致中共領導人上臺後，需推行改革開放政策，促進經濟成長。請問：下列何者不是改革開放的主要施政方向？(A)推動土地改革(B)成立經濟特區(C)廢除人民公社(D)整頓國營事業。
- () 17. 西元 1980 年起，中共政府在深圳、珠海、汕頭地設

- 立「經濟特區開放外商直接投資。請問:經濟特區設立在這些地方的主要原因為何?(A)這些地區教育水準較高(B)這些地區人口較密集(C)這些地區位於沿海方便外商投資 (D)這些地區皆曾為中國首都。
- ()18. 1989年,改革派代表 000 逝世,許多地方發起紀念活動,其中有人提出自由與民主的政治訴求。上述 000 應填入何人?(A)毛澤東(B)鄧小平(C)胡耀邦(D)江青
- ()19. 西元 1989 年,北京學生提出民主改革的求,引發百萬人上街遊行,鄧小平下令軍隊鎮壓造成震驚世界的什麼事件?(A)五四動(B)西安事(C)新文化運動(D)六四天安門事件。
- ()20. 中國大陸實施改革開放後,對全世界造成什麼樣的影響?(A)世界各國紛紛開始學習中國傳統儒家文化(B)世界各國紛紛開始學習共產主義(C)中國逐漸成為半導體工業龍頭(D)中國逐漸成為世界工廠。
- ()21. 西元 1999 年,澳門百餘年殖民統治終於走入歷史。請問:下列哪個國家將澳門的主權還給中國?(A)西班牙(B)葡萄牙(C)英國(D)美國
- ()22. 近年來,中華人民共和國大幅提升經濟政治實力,在第三世界國家中具有重要影響第三世界國家最不可能出現在何處?(A)中南美洲(B)亞洲(C)非洲(D)歐洲
- ()23. 某場戰爭結束後,世界上的民主國家與共產國家兩大陣營相互對峙,史稱「冷戰」時期。請問:「冷戰」是在哪場戰爭結束後開始的?(A)第一次世界大戰(B)第二次世界大戰(C)韓戰(D)越戰。
- ()24. 西元 1954 年,越南脫離殖民母國統治後,為了追求國家統一展開內戰,但越戰卻成為美蘇兩大陣營的角力場。請問:上述的「殖民母國」是哪個國家?(A)法國(B)德國(C)英國(D)葡萄牙。
- ()25. 中國共產黨本因蘇聯的支持而起,一向都採取親蘇政策,但自一九五〇年代末期至一九六〇年代,中蘇雙方交惡。請問:下列何者不是中蘇交惡的原因?(A)蘇聯停止對中國的援助(B)中國認為蘇聯欲控制其內政、外交(C)兩國因邊界糾紛發生戰事(D)美國派軍艦巡防臺灣海峽。
- ()26. 中蘇分歧之,中華人民共和國開始希望能改善中美之間的關係,美國亦希望能拉中國來制衡蘇聯,兩國開始關係正常化。請問:此時期的中美領導人分別為何人?(A)毛澤東、甘酒迪(B)毛澤東、尼克森(C)鄧小平、甘酒迪(D)鄧小平、尼克森。
- ()27. 中國推行改革開放後,亦希望改善與蘇聯之間的緊張關係。西元 1989 年,蘇聯領導人至中國訪問,兩國關係破冰,雙方恢復正常交往請問:上述拜訪中國的蘇聯領導人為何者?(A)戈巴契夫(B)鮑羅庭(C)尼克森(D)馬歇爾。
- ()28. 西元 1950 年,某場戰爭的爆發使得美國為防堵共產勢力在亞洲擴張,陸續與亞洲許多國家簽訂協防條約,並得以在各地派遣駐軍請問:「某場戰爭」應為下列何者?(A)韓戰(B)越戰(C)第一次世界大戰(D)第二次世界大戰。
- ()29. 下列關於中華民國與東南各國之間的關係,何者正確?(A)中華民國近年發展政治交流活動(B)中華民國不重視東南亞華僑在當地的工作(C)中華民國與東南亞國家僅限於軍事往來(D)中華民國政府推動新南向政策,希望與東協各國加強交流。
- ()30. 東南亞國家協會成員原以東南亞地區的國家為主,後來發展至今有「東協+3」的說法。請問:上述組織成立的背景為何?(A)為了相同的政治理念(B)為了強化各國軍事實力(C)為了圍堵共產勢力的擴張(D)為了推展區域經濟與安全合作
- ()31. 人民在文學、科學、藝術或其他學術領域的創作,完成時所享有的權利稱為下列何者? (A)參政權 (B)隱私權 (C)著作權 (D)商標權。
- ()32. 我國為了保障創作者的智慧財產,避免受到他人侵害而訂定相關法律,下列何者不具有上述功能? (A)《著作權法》 (B)《專利法》 (C)《個人資料保護法》 (D)《商標法》。
- ()33. 千岱將網路上介紹鳥類生態的資料及圖片下載,作為暑假作業繳交,並且把它放到個人網站,宣稱是自己的作品,供網友點閱。上述做法已侵害了他人的何項權利? (A)隱私權 (B)平等權 (C)人身自由 (D)智慧財產權。
- ()34. 近日全臺查獲多起知名品牌的商品仿冒事件,這些以假亂真的仿冒品,最可能侵害知名品牌的下列何種權利? (A)自由權 (B)出版權 (C)商標權 (D)著作權。
- ()35. 下列何者屬於《專利法》的保障範圍? (A)美術雕塑作品 (B)舞臺劇的劇情編排 (C)新一代人體工學座椅 (D)店家及其圖案標示。
- ()36. 為了追查犯罪,一般是由被害人向警察機關報案,由警察機關為初步的調查,將調查結果移送下列何者,進行偵查? (A)律師 (B)法官 (C)檢察官 (D)書記官。
- ()37. 檢察官依偵查結果,若認為沒有犯罪嫌疑時,應採取下列何種做法? (A)提起自訴 (B)提起公訴 (C)做出起訴處分 (D)做出不起訴處分。
- ()38. 丸子和家人出去用餐,但因停車糾紛和他人大打出手,造成頭手多處受傷。丸子心有不甘,決定委由律師向對方提告,此種提告方式稱為下列何者? (A)自訴 (B)自首 (C)公訴 (D)告發。
- ()39. 米某日放學回家時,看見有車輛撞傷人後肇事逃逸,於是小米記下車號向警方報案,此種提告方式稱為下列何者? (A)自訴 (B)告訴 (C)公訴 (D)告發。
- ()40. 檢察官包先生正在偵查的案件當中,下列何種情況不可能做出不起訴處分? (A)被告的張先生因為意外而過世 (B)案發當時人在國外因而沒有犯罪嫌疑的辜先生 (C)闖進民宅偷竊並傷害主人的阿水 (D)犯罪證據不足的詐欺案件。
- ()41. 以下是刑事偵查的流程一



關於甲、乙、丙的敘述何者正確？ (A)甲：由法官負責 (B)乙：由警方向法院提起 (C)乙：由檢察官向法院提起告發 (D)丙：由法官負責，不受外力干涉。

- ()42. 國中生正值青春期的思慮不周且易受社會不良風氣影響，政府為了保護少年，特別制定下列何種法律來處理少年事件？ (A)《刑法》 (B)《勞動基準法》 (C)《少年事件處理法》 (D)《兒童及少年福利與權益保障法》。
- ()43. 少年刑事案件是指少年觸犯《刑法》中最輕本刑為5年以上有期徒刑的犯罪，且犯罪時已滿14歲，這類案件由下列何者負責調查及審理？ (A)法院 (B)行政法院 (C)少年法院 (D)憲法法庭。
- ()44. 一名15歲國中生，平日性情暴躁，常毆打年邁的祖母；某日，他向祖母要零用錢花用不成，而將祖母殺害。依照法律規定，此名觸犯重罪之少年，會受到下列何種處罰？ (A)有期徒刑 (B)保護處分 (C)加強輔導 (D)剝奪親權。
- ()45. 下列四人的行為，何者構成少年刑事案件？

14歲的大強在文具行偷拿一本筆記本。 19歲的志華借錢不成將對方打成重傷。 15歲的向安在學校用三字經辱罵同學。 17歲的光明放學後持刀搶取婦人皮包。
--

- (A)大強 (B)志華 (C)向安 (D)光明。

Answer:

ADBBC DADBC
 CDCBD ACCDD
 BDBAD BAADD
 CCDCC CDADC
 DCCAD