

地理科 一、選擇題

(C) 1. 老師上課時要同學分享去臺灣各地的旅遊經驗，請問：下列哪一位同學的敘述是正確的？(A)凱樂：我到人口最多的東部地區，體驗當地的原住民文化 (B)鄭皓：我去宜蘭的安平老街參觀，吃當地有名的小吃 (C)奕佐：我到澎湖看到許多農田為抵擋強風而設置菜宅 (D)佳興：我到新竹市臺灣最大的國際機場，搭乘飛機到美國。

(A) 2. 右圖為臺灣島嶼位置圖。請問：圖中哪個臺灣島嶼以戰地風光著稱，為國內第一座以維護歷史文化資產、戰役史蹟為主的國家公園？

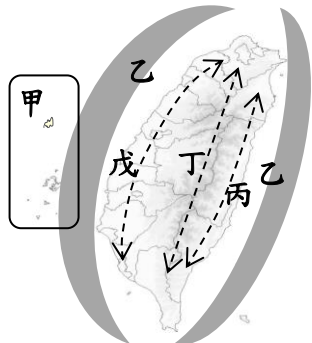


(A) 甲 (B) 乙 (C) 丙 (D) 丁

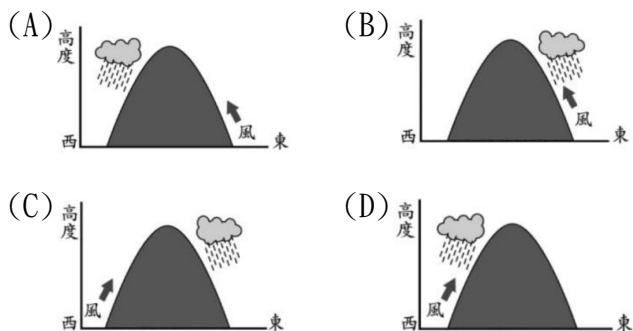
(B) 3. 「溪底寮」為臺灣常見的聚落名稱，源自於當地民眾利用河川枯水期再乾涸河床從事農墾，並搭建簡單的寮房。考量臺灣的氣候和河川特色，下列縣市中何者具有最多溪底寮地名？(A)新竹縣 (B)嘉義縣 (C)花蓮縣 (D)宜蘭縣。

(A) 4. 承上題，造成此地區河川出現枯水期的主因為下列何者？(A)背東北季風 (B)迎西南季風 (C)多平原地形 (D)地處熱帶氣候

(B) 5. 右圖為國土空間發展計畫之示意圖。請問：近年來政府與民間積極開發「海洋深層水」資源，取自水深 600 公尺的海底，特色是富含微量元素、低汙染，可作為食品、水產養殖等用途。請問此資源開發區在哪一軸帶？(A)甲 (B)乙 (C)丙 (D)丁。



(D) 6. 臺東在夏季時常有「焚風出現，每年的焚風都可以讓氣溫飆升到 37°C 以上，會使樹葉枯萎、農作物枯死。請問：下列哪一張示意圖最適合用來說明臺東發生焚風的情形？



(D) 7. 武漢國中即將在九月舉行九年級的畢業旅行，經過問卷調查，多數學生希望此次旅遊能達成右表中的多項目標。請問：應選擇下列何處，才能滿足多數學生的期望？

- (A) 苗栗縣
- (B) 臺中市
- (C) 彰化縣
- (D) 南投縣

- 1. 能造訪以檜木打造的集集車站
- 2. 能去溪頭森林浴及參觀妖怪村
- 3. 能到日月潭搭船與搭纜車

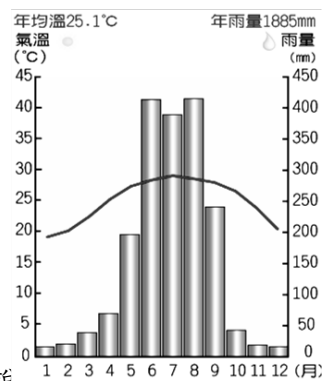
(C) 8. 2015 年臺灣登革熱疫情嚴重，中央政府成立疫情指揮中心，全面防堵疫情的擴散。下表為截至 2015 年 9 月 24 日的登革熱病例的分布統計圖，根據圖中資訊判斷要特別加強防疫的是哪一區域？

縣市	病例數	縣市	病例數	縣市	病例數
臺南市	13,960	嘉義縣	13	宜蘭縣	3
高雄市	1,858	新竹縣	12	花蓮縣	3
屏東縣	61	新竹市	9	南投縣	3
新北市	33	嘉義市	9	基隆市	2
臺中市	32	彰化縣	7	金門縣	2
臺北市	29	雲林縣	6	苗栗縣	2
桃園市	25	澎湖縣	4	臺東縣	1

- (A) 北部區域
- (B) 中部區域
- (C) 南部區域
- (D) 東部區域。

(B) 9. 晨恩在選舉公報上看見如下政見：「強化四大（石化、鋼鐵、造船、農漁業）基礎產業群，清查石化廠區線安全。」根據內容判斷，這是哪一個行政區的候選人政見？(A)彰化縣 (B)高雄市 (C)桃園市 (D)南投縣。

(C) 10. 苙瑄完成了老師交代的氣候圖繪製，卻忘記標上地名，請由右圖中的氣溫和雨量資料判斷，苙瑄畫的是臺灣哪一個區域的氣候圖？



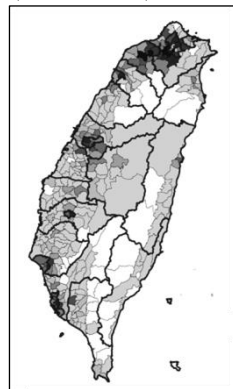
- (A) 北部
- (B) 中部
- (C) 南部
- (D) 東部

(D) 11. 承上題，根據此氣候圖，可說下列何種產業在此區域發展良好？

- (A) 重工業
- (B) 農漁業
- (C) 金融業
- (D) 曬鹽業。

(D) 12. 早期宜蘭因受山脈阻擋，交通不便，但蔣渭水高速公路完工後，交通的便利使宜蘭的觀光業愈來愈發達。若從臺灣的地理分區判斷，該高速公路運輸的區域為何？(A)北部地區至中部地區 (B)北部地區至東部地區 (C)中部地區至東部地區 (D)北部區域內部。

(B) 13. 右圖為臺灣統一企業 7-11 便利店商店分布圖，顏色越深表示數目越大。請問：下列哪一種主題地圖與該圖的相似度會最高？(A)農業人口比例圖 (B)人口密度圖 (C)性別比示意圖 (D)低收入戶比例圖



(B) 14. 政府為拉近離島與臺灣本島的區域差異，制定「離島建設條例」補助離島建設經費，下列哪一行政區最不符合申請資格？(A)連江縣 (B)南投縣 (C)屏東縣 (D)臺東縣。

(B) 15. 右表是臺灣各縣市人口總數排名前三名的資料，表中排名第一名的縣市，為下列何者？

排名	縣市	類別	人口
1	□□市	直轄市	3,979,208
2	高雄市	直轄市	2,779,371
3	臺中市	直轄市	2,767,239

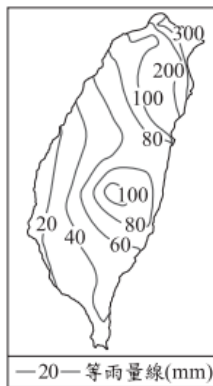
- (A) 臺北市
- (B) 新北市
- (C) 桃園市
- (D) 臺南市。

(C) 16. 崇軒因其島上有壯觀的柱狀玄武岩而到此觀光，而且此時更是有美麗的花火節，正在欣賞美麗的花火時，崇瑋打電話來，說他在山上看見了遠方海上的花火。考量到緯度相近，崇瑋最可能在下列哪一個縣市？(A)臺北市 (B)臺中市 (C)嘉義縣 (D)臺東縣。

(D) 17. 「一鄉一特色」是近年來政府積極推動的政策，鼓勵每一個鄉、鎮、市建立自己的特色產業，其特色產品需具有歷史性、文化性、獨特性或唯一性等特質，從工藝品、食品、景點都是推廣的範圍。下列是臺灣各地的特色產業，何者正確？(A)雲林縣古坑青蔥 (B)苗栗縣大湖葡萄 (C)新北市鶯歌米粉 (D)桃園縣大溪豆干。

(C) 18. 承上題，「一鄉一特色」，其主要目的為下列何者？(A)吸引外地人口移入以增加當地稅收 (B)提升生活機能使居民生活更便利 (C)帶動觀光業使居民就業機會增加 (D)恢復鄉村過去的傳統風貌。

(D) 19. 右圖為臺灣某月份的月平均等雨量線圖，根據圖中雨量的分布狀況判斷，該月份臺灣的氣候特色為下列何者？(A)易受颱風侵襲 (B)高溫多對流雨 (C)易形成滯留鋒 (D)東北季風盛行



(C) 20. 中部地區平原廣大，有多條河川流貫其間，為主要的農業區之一。依臺灣平原分布判斷，下列何者位於「中部區域」？(A)花東縱谷平原 (B)蘭陽平原 (C)彰化平原 (D)嘉南平原。

(B) 21. 下表是臺灣四大區域的人口比例，由表中數據變化可以得到下列哪項地理事實？(A)東部人口數逐年減少 (B)人口漸向北部集中 (C)人口分布出現兩極化 (D)人口漸向各區分散。(單位：%)

分區	北部	中部	南部	東部
民國 55 年	32.9	29.3	33.4	4.4
民國 71 年	39.8	25.8	30.9	3.5
民國 99 年	44.4	24.9	27.4	3.3

(D) 22. 民國99年，政府為了均衡區域發展，立法通過「國土空間發展策略計畫」，下列有關該計畫的重點說明何者正確？(A)中央山脈強調森林資源的開發與再利用 (B)離島強調將樂活、慢活概念融入產業活動 (C)強調以各縣市為範圍，發展成獨立經濟體 (D)海洋環帶強調海岸及海洋間的自然珍貴資產。

(A) 23. 近年來臺灣的區域差異逐漸擴大，政府推動各項法令與建設，希望藉由公平、合理及有效的規畫，縮小臺灣各區域的發展差距，下列哪一項措施無法縮小差距？(A)加入世界貿易組織 (B)落實農村再生條例 (C)實施離島建設條例 (D)推動一鄉一特色。

(D) 24. 外流就業人口是指不住在戶籍地縣市，而住在外縣市之就業人口，例如某人戶籍地在嘉義縣，但因工作而住在臺南市，則計入嘉義縣的外流就業人口。表下為 2012 年桃園縣(已改制為桃園市)、雲林縣、臺東縣、澎湖縣四個行政區的外流就業人口統計資料，其中何者可能為桃園縣？(A)甲 (B)乙 (C)丙 (D)丁。

行政區	外流就業人口(千人)	外流就業人口占該區就業人口比率(%)
甲	12	30.78
乙	31	29.86
丙	83	25.06
丁	59	6.28

(B) 25. 關於臺灣四大區域的自然環境敘述中，何者錯誤？(A)北部地區主要地形為山地、丘陵，全年有雨，是臺灣雨量最多的地區 (B)中部地區最大的平原是嘉南平原，由全臺最長的河川—濁水溪所沖積而成 (C)南部區域是乾濕季分明，有全臺流域面積最大的

河川—高屏溪流經 (D)東部地區位處板塊接觸帶，為全臺地震最頻繁的，也是颱風頻率最高的地區。

(C) 26. 西螺大橋完成於 1953 年，是連絡雲林縣和彰化縣的公路孔道，全長近 2km，是美援時期下的重大建設，完工當時是僅次於美國舊金山金門大橋的世界第二大橋，也是當時遠東地區第一大橋，就連舊臺幣上面都有它的蹤跡。請問這座大橋跨越下列哪一條河川？(A)淡水河 (B)大甲溪 (C)濁水溪 (D)蘭陽溪。



(D) 27. 來自日本的大雄來到臺灣的南部區域觀光，下列哪一個景點最不可能出現在旅遊行程中？(A)澎湖雙心石滬 (B)臺南七股鹽田 (C)嘉義高跟鞋教堂 (D)綠島朝日溫泉。

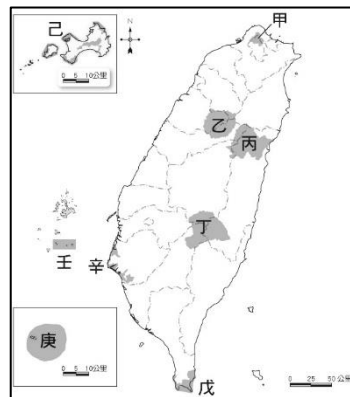
(A) 28. 「○○港」位於臺灣北部，是優越的天然良港，也是早期北臺灣對外的航運樞紐，然而周邊丘陵地形使其腹地較為狹小，成為發展上的限制。請問「○○港」最可能是下列何者？(A)基隆港 (B)臺中港 (C)高雄港 (D)花蓮港。

二、題組

(一)「亞洲水泥公司表示：早在『□』國家公園計畫公告前十多年即已取得礦業權，然而在數十年開採水泥的結果下，『□』好像頭被挖一個洞一樣，新任環保署署長要求亞泥於 2017 年礦權屆滿停止開發。」請問：

(B) 29. 報導中亞泥公司開採礦產的「□」國家公園位於附圖中何處？(A)甲 (B)丙 (C)丁 (D)己。

(A) 30. 「□」所在的縣市以成立水泥工業區做為發展，最主要考量的工業區位是什麼？(A)原料 (B)交通 (C)市場 (D)動力。



公民科 選擇題

(D) 1. 華山 1914 文化創意產業園區舉辦了「中華職棒 30 週年特展」，蒐集了中華職棒元年以來較具代表性的職棒事件，讓參觀展覽的民眾能夠認識中華職棒文化與演變。請問：上述內容最能說明何項概念？(A) 社會規範 (B) 社會互動 (C) 社會福利 (D) 社會變遷。

(A) 2. 隨著環保意識的提升，環保署公告「一次用塑膠吸管限制使用對象及實施方式」，規定自 108 年 7 月 1 日起政府部門、學校、百貨公司業及購物中心、連鎖速食店等 4 類對象，內食餐飲不得提供一次用塑膠吸管。違反者第一次勸導，第二次起處新臺 1,200~6,000 元罰款。請問：上述內容最主要說明哪種型態的社會變遷？(A) 理念改變造成制度的變遷 (B) 制度改變造成器物的變遷 (C) 理念改變造成器物的變遷 (D) 器物改變造成制度的變遷。

(B) 3. 請根據內容判斷，下列何者最適合作為其推論？(A) 增加監視系統數量以保護人民居家安全 (B) 社會問題初期顯現應立即處理以免擴大 (C) 處理公眾事務要視輕重緩急的程度著手 (D) 研發堅固的門窗與治安的改善息息相關。

窗戶破了，長時間沒人去修補，路人經過時會認為這是無人管理的地方，隔不久其他窗戶也會莫名其妙被打破。同樣的，一個乾淨的地方，人們會不好意思丟垃圾，但若有垃圾出現，人們就會跟著隨地丟棄。

(B) 4. 衛生福利部表示長期照護保險架構比照全民健保制度，不管大人、小孩都要繳納長照保費，保費比照現行健保以投保薪資來計算。請問：長期照護保險屬於何種社會福利的內容？(A) 社會救助 (B) 社會保險 (C) 就業安全 (D) 福利服務。

(D) 5. 政府會提供社會上部分弱勢群體(如獨居老人、身心障礙者、罹患特殊疾病者等)適宜的住宅，解決他們居住的問題。請問：上述政府的做法，落實了社會福利的何種觀念？(A) 社會救助 (B) 社會保險 (C) 健康與醫療照護 (D) 居住正義。

(B) 6. 下表為汶臻一家六口的資料。請問汶臻家有幾個人需繳交國民年金保險？(A) 3 人 (B) 2 人 (C) 1 人 (D) 0 人

奶奶：70 歲，已退休	爸爸：48 歲，公務員
媽媽：45 歲，家庭主婦	姊姊：26 歲，未就業
哥哥：23 歲，半工半讀大學生	汶臻：13 歲，國中生

(A) 7. 因應《性別平等教育法》實施，學校相關單位已成立性別平等教育委員會，並向同學們宣導如果遇到性平相關事件請勇敢舉報。請問：上述《性別平等教育法》的實施，屬於社會變遷中哪個層面的改變？(A) 社會制度 (B) 價值觀念 (C) 生活方式 (D) 器物生活

(D) 8. 我們為身心障礙人士設置導盲磚、輪椅斜坡道等無障礙設施。請問：這是以何種精神對待社會中的弱勢族群？(A) 公平競爭 (B) 受益原則 (C) 服從多數 (D) 追求正義。

(C) 9. 我國公益彩券盈餘，明定應用於辦理社會福利事項，因此各縣市政府不該將其用於下列何種行政業務？(A) 補助低收入戶 (B) 設置地方無障礙設施 (C) 修繕地方交通要道 (D) 獨居老人送餐服務。

(C) 10. 隨著資訊科技的發達，網路購物越來越便利。但有人利用網路匿名的特性，使得買賣雙方都有被詐騙的風險。下列何種做法較能保障網路交易的安全性？(甲) 請求警察隨時保護監視 (乙) 加強反詐騙觀念與知識 (丙) 不隨意透露個人密碼與重要資訊。(A) 甲乙 (B) 甲丙 (C) 乙丙 (D) 甲乙丙。

(C) 11. 大型的醫院多集中在北部和西部，東部較少。而且偏鄉老年人口居多，他們繳交一樣的健保費卻無法享有相同的醫療資源。此凸顯了全國醫療資源分布落差，該問題呈現出何種影響？(A) 價值觀念的混淆 (B) 個人的適應不良 (C) 弱勢權益的忽視 (D) 社會流動的快速。

(A) 12. 下表為臻臻市 2018 年社會福利支出的比例。請問：下列何項屬於該市社會福利支出中最低的項目？(A) 開辦烘焙課程訓練班 (B) 設置兒少休閒活動中心 (C) 登革熱防治工作實施 (D) 對急難者提供生活扶助。

社會保險	社會救助	就業安全	福利服務	健康與醫療照護
28%	23%	14%	19%	16%

(A) 13. 俗話說：「英雄不怕出生低。」，指的是個人的努力會帶來成功，不會因為出身低而受到限制。請問：個人藉由努力來改變自己的地位，與下列哪一個概念最為相符？(A) 社會流動 (B) 社會變遷 (C) 社會福利 (D) 社會規範。

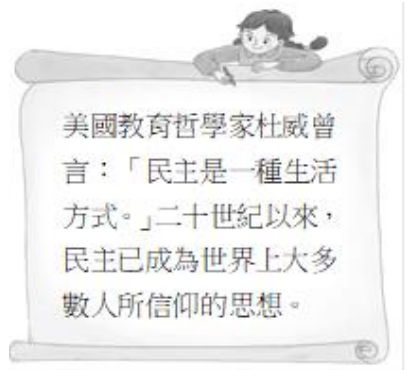
(D) 14. 《禮記·禮運篇·大同章》提到：「故人不獨親其親，不獨子其子，使老有所終，壯有所用，幼有所長，矜寡孤獨廢疾者皆有所養。」這就是下列何種觀念？(A) 民主法治 (B) 志願服務 (C) 人人平等 (D) 社會福利。

(B) 15. 桃園市政府 社會局透過「安家實物銀行」社區分行提出創新方案，在桃園 13 個行政區設置 19 間安家實物銀行，由政府挹注資金，結合民間商家資源，提供民生物資、泡麵、麵線、米等食物包，緩解三餐難繼的家庭。請問：依據上述內容判斷，「安家實物銀行」是基於何種理念而成立的？(A) 多元文化 (B) 社會正義 (C) 社區營造 (D) 主權在民。

(D) 16. 為了避免國民因疾病、年老、退休、死亡及職業災害等原因而陷入生活與經濟危機，政府可從下列何種社會福利政策著手預防？(A) 發放老人年金 (B) 推動社區永續發展 (C) 辦理職業訓練 (D) 實施社會保險。

(C) 17. 臺灣民眾在飲食方面的選擇愈來愈多元化，例如：日本拉麵、越南河粉、義大利麵、韓國泡菜等，幾乎都已經成為日常生活中習慣的菜色與口味。引發上述社會變遷的主要原因，應為下列何者？(A) 社會運動的推動 (B) 科學技術的發展 (C) 外來文化的交流 (D) 自然環境的變化。

(C) 18. 附圖為根據內容判斷，該書所言是屬於何種文化層次的社會變遷？(A) 器物 (B) 制度 (C) 理念 (D) 工具。




(B) 19. 兒童福利聯盟文教基金會 調查發現，都會區的學童放學後，常直奔才藝班或安親班、假日及寒暑假參加營隊活動或看展覽；但偏遠地區卻出現許多「宅童」，生活經驗較狹隘，缺乏文化的刺激。請問：上述的社會現狀，說明了台灣社會呈現出下列何種問題？(A) 犯罪問題 (B) 貧富差距的擴大 (C) 生活適應不良 (D) 價值觀念的混淆。

- (A) 20.我國羽球好手戴資穎，現為羽球女子單打項目世界第一的運動員，她帶來的戴式旋風，讓一向重視學歷的國人，開始思索多元智慧的時代，行行出狀元，每個人都可以找到自己的興趣和值得努力的方向。此屬於社會變遷中哪個層面的改變？(A)價值觀念 (B)社會制度 (C)器物生活 (D)教育制度。
- (A) 21.許多慈善公益的社福團體藉由募集發票的方式來籌措經費；然而，隨著電子發票的普及，我們在消費時只要透過一組愛心代碼，也可以直接將電子發票捐贈給社福團體。請問：上述的內容屬於何種層次的社會變遷現象？(A)器物生活 (B)價值觀念 (C)社會制度 (D)倫理道德。
- (B) 22.小朱常在 Instagram 分享當媽媽的心得，並張貼許多寶寶的照片與朋友分享。相較於早期的媽媽用筆記錄孩子的成長，小朱則是利用電腦記錄育兒經驗，這是屬於社會變遷中哪個面向的改變？(A)社會制度 (B)器物生活 (C)價值觀念 (D)生活方式。
- (D) 23.里長辦公室有一則公告：「凡今年度已核列的低收入戶及中低收入戶，請至里長辦公室領取補助。」上述內容屬於政府實施的何項社會福利政策？(A)健康與醫療照護 (B)福利服務 (C)社會保險 (D)社會救助。
- (C) 24.立法院三讀通過刑法第 185 條之 3 條條文，酒駕處罰規定的修正案，加重相關刑責，酒駕累犯若撞死人，最高可處無期徒刑，呼籲駕駛朋友不可輕忽，也絕對不要酒駕。以上所述，屬於何種層次的社會變遷？(A)價值觀念 (B)器物生活 (C)社會制度 (D)經濟生活。
- (D) 25.近年來，中央健康保險署積極向民眾宣導「小病在小診所就診，大病到大醫院就醫」的觀念，並配合轉診措施的推展，以落實醫療分級制度，有效運用福利資源。上述做法最主要是希望達到下列何種目的？(A)降低部分負擔 (B)強化社區保健 (C)實施醫藥分業 (D)善用醫療資源。
- (D) 26.日本福島縣發生地震和大海嘯，造成輻射外洩的災害，引起日本當局與各國對於核能發電的省思，連帶影響許多國家開始檢討核能發電的相關政策。引發上述社會變遷的主要原因，應為下列何者？(A)自然環境的變化 (B)社會運動的推動 (C)外來文化的刺激 (D)科學技術的發展。
- (D) 27.請問：下列何項是以「個人努力」的觀點來因應社會變遷？(A)宗教團體提倡新的倫理觀念，穩定社會的力量 (B)積極推動品格教育 (C)規畫健全的社會福利制度 (D)抱持終身學習的精神。
- (D) 28.過去民眾購物習慣拿取塑膠袋，因環保觀念的普及後，民眾漸漸開始攜帶環保袋出門。請問：上述屬於哪些層面的相互影響？(A)器物變遷帶動制度變遷 (B)器物變遷帶動理念變遷 (C)制度變遷帶動理念變遷 (D)理念變遷帶動器物變遷。
- (D) 29.下列哪一個例子無法說明社會流動這個概念？(A)非裔的歐巴馬因為教育及個人的努力，當選美國總統 (B)出身清寒的孩子用功苦讀，長大後成為連鎖企業總裁 (C)企業老闆破產後，到工廠擔任基層員工 (D)知名企業的老闆將事業轉交給兒子經營。
- (C) 30.近日民眾對登革熱的警覺心逐漸降低，高雄市政府為了防疫，將加強取締居家與環境的衛生，營造有利國民身心健康的生活環境。高雄市政府這項加強防疫的措施，符合哪項社會福利政策？(A)福利服務 (B)社會救助 (C)健康與醫療照護 (D)社會保險與津貼。

歷史科

一、選擇題

- (A) 1. 中央政府遷臺以來，我國在外交上的處境日益艱難，尤其是下列哪一事件的發生，使臺灣的國際地位更形孤立，政府改採彈性外交政策？
(A) 退出聯合國 (B) 八二三炮戰
(C) 二二八事件 (D) 解除《戒嚴令》。
- (B) 2. 1950 年韓戰爆發，美國政府提供臺灣軍事及經濟援助，對當時物資匱乏，資金短缺的臺灣而言，無疑是一場及時雨。美國當時援助臺灣的根本原因最可能是下列何者？ (A) 支援對抗日本的盟國 (B) 圍堵共產勢力的擴張 (C) 轉移經濟大恐慌的焦點 (D) 防範法西斯主義的蔓延。
- (C) 3. 右圖是林雁雁端午節出門在外，發表在即時動態的照片。由照片內容推測他應該在哪個外島？
(A) 馬祖 (B) 廈門 (C) 金門 (D) 烏坵
- 
- (D) 4. 莊千千記得小時候常可看到學校圍牆上寫著「反共抗俄」、「解放大陸同胞」等精神標語。由此可知，當時政府對海峽兩岸抱持何種態度？
(A) 兩岸交流 (B) 開放大陸探親
(C) 台灣獨立 (D) 光復大陸。
- (A) 5. 臺灣解嚴後，陸續開放兩岸間接觸，以下哪項措施是陳水扁總統任內 (民國 89~97 年) 啟動？
(A) 小三通 (B) 馬習會
(C) 大陸探親 (D) 設立海基會
- (A) 6. 第二次世界大戰結束後，國共內戰，國民政府遷臺，遷臺之初兩岸局勢緊張，但因為哪一事件，促使美國派遣第七艦隊保衛臺灣海峽安全，才穩定了臺海局勢？ (A) 韓戰 (B) 越戰
(C) 古寧頭戰役 (D) 八二三炮戰。
- (C) 7. 今日台北市區有著許多以中國地名來命名的道路，如重慶南、北路，青島東、西路等。進行改名的是一位上海工程師鄭定邦。當時台北範圍大概是今天的大同、中山、大安、萬華和松山區。鄭定邦是將一張中國地圖蓋在台北地圖上，中軸線對準中山南北路，再將地圖上的中國地名填上台北街道。請問，此台北道路改名與推動什麼有關？ (A) 本土文化 (B) 土地改革
(C) 中華文化 (D) 十大建設。

二、題組

(一) 以下為臺灣政治、經濟發展重要事項，請將表格中適當的年代與第 8~14 題發展事項配對。

- (C) 8. 興建大煉鋼廠。
(B) 9. 成立加工出口區。
(A) 10. 耕者有其田。
(C) 11. 發展石油化學工業。
(C) 12. 美麗島事件。
(C) 13. 中華民國與美國斷交。
(A) 14. 八二三砲戰發生。

- | |
|--------------|
| (A) 民國 40 年代 |
| (B) 民國 50 年代 |
| (C) 民國 60 年代 |
| (D) 民國 70 年代 |

(二) 請閱讀下列歷史資料，並回答第 15~16 題：

9 月 21 日，日本政府宣布連署美國的兩項提案，但第二天，聯合國大會總務委員會通過議程，把阿爾巴尼亞排除中華民國，容納中共入會案列在美國的提案之前，優先表決…。

在重要問題案受挫後，美國代表布希提議把阿爾巴尼亞案的排除中華民國條款單獨表決，但此提議以 51 票對 61 票，16 票棄權而告失敗。沙烏地阿拉伯提議延後表決也被否決。阿爾巴尼亞案遂以 76 票贊成，35 票反對，17 票棄權獲通過。

在阿爾巴尼亞案開始表決前，外交部長周書楷向大會宣布：「鑑於大會瘋狂、非理性的行為，中華民國代表團決定不再參加任何聯大的議程。」他隨即率團走出聯合國會場。

- (C) 15. 上述文件應該出現在哪個時期？
(A) 民國四十年代 (B) 民國五十年代
(C) 民國六十年代 (D) 民國七十年代。
- (D) 16. 這份文件顯示中華民國正面臨哪一場外交困境？
(A) 我國為表達對國際社會的不滿，主動與英、日斷交 (B) 中共打壓我國外交，使我方被迫主動放棄既有邦交 (C) 美國將與中華人民共和國建交，並與我國斷絕邦交 (D) 聯合國同意中華人民共和國入會，並取代中華民國。

(三) 配合題。下圖是臺灣經濟發展各階段主要生產物品，請回答第 17~20 題，依序填入適當的圖片代號。



- (C) 17. 民國四十~五十年代，實施進口替代政策
(A) 18. 民國五十~六十年代，推動出口導向政策
(D) 19. 民國六十~七十年代，發展重化工業
(B) 20. 民國七十年代~現今，提倡高科技產業

(四) 十大建設中，哪些是屬於交通建設，哪些又是重工業，請依據右側提示，回答第 21~23 題。

- (A) 21. 中國造船廠。 (A) 重工業
(B) 22. 鐵路電氣化。 (B) 交通建設
(B) 23. 中正國際機場。

(五) 請根據右側表格內有關教育及文化的提示，

回答第 24~27 題。

- (B) 24. 國語運動。
(A) 25. 多元入學。
(D) 26. 小說《兒子的大玩偶》。
(A) 27. 十二年國教。

- | |
|----------|
| (A) 教育改革 |
| (B) 中華文化 |
| (C) 美國文化 |
| (D) 鄉土文學 |

(六) 配合題。回顧戰後臺灣教育發展的過程，請回答第 28~30 題，將備選答案的正確代號填入答案欄。

- 備選答案：(A) 推動國語運動 (B) 重視母語教學
(C) 推展職業學校 (D) 實施九年國民義務教育
- (D) 28. 民國 57 年，政府為了提高國民的素質而有何項措施？
(C) 29. 政府為配合經濟建設的需要，培養技術人才，曾經採行哪項措施？
(A) 30. 政府在戰後初期，為了提倡中華文化，因而禁止國民在公開場合使用方言。