

歷史科

一、單選題

- (D) 1. 「這場革命使人民脫離舊有政府，重新建立新政府。新政府的權力是由人民所創造，人民有權利改變或廢除此政府。」這段文字敘述十八世紀發生於美洲的革命事件。請問：下列哪一項文件與此事件有關？  
(A)《漢摩拉比法典》(B)《人權宣言》(C)《拿破崙法典》(D)《獨立宣言》。
- (D) 2. 每年的 7 月 4 日是美國國慶日，這個日子是為了紀念下列哪一件史事？(A)英國移民船登陸北美大陸 (B)美國憲法制定完成 (C)英軍向北美十三州投降 (D)殖民地代表發表《獨立宣言》。
- (D) 3. 許卉卉的法國網友對她說：「7 月 14 日是法國國慶日，這個日子是揭開法國大革命的日子，也是慶祝法蘭西共和國自由、平等、博愛價值的神聖日子」請問：法國國慶日的制定與哪一事件相關？(A)國民會議發表人權宣言 (B)平民議員另組國民會議 (C)拿破崙登基為法國皇帝 (D)巴士底監獄被攻陷。
- (B) 4. 十九世紀的歐洲，曾一度被保守主義壟罩。請問：當時歐洲保守主義盛行的原因為何？(A)拿破崙統一歐洲 (B)維也納會議恢復各國王室統治權 (C)維也納會議未能落實正統原則 (D)首相梅特涅信奉自由原則。
- (B) 5. 十八世紀以來的自由主義，在法國大革命達到了高峰，「自由、平等、博愛」已經透過拿破崙的武力征服，散布到歐洲各地。但是在拿破崙失敗後，奧國首相梅特涅主導的保守主義反撲，開啟了往後 40 年的保守當道時代。下列那項敘述最能代表梅特涅的保守政策？(A)頒布憲法 (B)法國恢復王室 (C)攻打俄國 (D)恢復《人權宣言》。
- (C) 6. 俾斯麥主政，對於德意志的建立和歐洲勢力皆有舉足輕重的影響。下列關於俾斯麥的敘述，何者錯誤？  
(A)被稱為「鐵血宰相」(B)與法國交戰，提倡民族愛國心 (C)德法戰爭後加冕為德意志帝國皇帝 (D)促成普魯士成為統一德意志地區的核心。
- (C) 7. (甲)薩丁尼亞王國為建國運動的領頭羊 (乙)薩丁尼亞王國首相加富爾採取軍事與外交策略，排除奧國在義大利的勢力 (丙)馬志尼率領紅衫軍征戰義大利南部 (丁)義大利的土地多半為英國與奧國所控制 (戊)馬志尼等人組織「青年義大利黨」，主張取回奧地利占領地。上面的敘述何者正確？  
(A)甲乙丙 (B)甲乙丁 (C)甲乙戊 (D)乙丙丁。
- (C) 8. 德國與義大利的統一時間接近，面臨的問題也有許多相似之處，請問以下何者為非？(A)兩國統一前皆邦國林立，唯靠某一邦國主導統一 (B)兩國之所以能統一，皆有賴於賢能的首相與知人善任的君主 (C)兩國皆打敗了奧國與法國才能獲得統一 (D)義大利的建國與統一都早於德國。
- (B) 9. 學者以十九世紀的德意志、義大利的政治史進行比較與研究，最後可歸結出這兩地區都是下列哪一種思想

蓬勃發展的區域？(A)自由主義 (B)民族主義 (C)保守主義 (D)社會主義。

- (A) 10. 右圖為西元 1899 年《底特律雜誌》的圖片。內容為一位白人背著黑人去學校，並說明「將黑人送到學校去接受教育，是白種人的使命」。圖中論點的出現，有可能導致下列哪一歷史事件的發生？(A)法國侵略越南 (B)美國獨立戰爭 (C)歐洲發展工業革命 (D)日本實施明治維新。



- (D) 11. 十九世紀開始，歐洲興起了帝國主義的行徑，即積極向亞洲進行侵略行動，以換得更多的原物料以及貿易市場，並派遣傳教士加以傳教。下列關於帝國主義興起的原因，何者敘述錯誤？  
(A)因為工業革命的影響之下，使得歐洲各國需要尋找海外市場及原料。  
(B)歐洲諸國相信社會達爾文主義優勝劣敗，認為自己有能力及合理性侵略他人。  
(C)在經過十八、十九世紀的思潮與工業革命的影響之下，使得歐洲武力與交通運輸技術之發達。  
(D)歐洲國家相信亞洲地區的經濟發展遠勝於歐洲，因此歐洲國家才會積極向亞洲加以侵略。
- (B) 12. 美國獨立運動與法國大革命運動堪稱是十八世紀的兩個相當重要的事件，後續的影響甚至觸及到全世界。下列有關這兩大運動的說明，何者正確？  
(A)兩個運動的導火線均因政府出現財政問題，希望人民自願移居海外殖民地居住。  
(B)兩個運動最終都是當地原有的統治政權遭到推翻。  
(C)兩個運動均影響了十七、十八世紀啟蒙運動政治民主思想的脈動。  
(D)兩個運動的結果均致使當地採行恐怖統治。
- (C) 13. 這個地區位於歐、亞、非三洲的交界，曾先後歷經希臘、亞歷山大帝國等政權的統治。近代時因為此地區局勢動盪不安，爆發了第一次世界大戰。此地區應位於右上圖中的何處？(A)甲 (B)乙 (C)丙 (D)丁。
- (B) 14. 西元 1907 年，有 3 個歐洲國家簽訂互相諒解和支持的協議，稱為「三國協約」，而組成的主要目的是為對抗敵對陣營。請問：「三國協約」不包括下列哪一個國家？(A)俄國 (B)德國 (C)英國 (D)法國。
- (C) 15. 現代網路資源非常發達，如果要了解第一次世界大戰中使用的武器，只要在搜尋網站中鍵入「一次大戰的武器」，就可以找到許多圖片。下列哪一種武器，不應該出現在搜尋結果中？(A)坦克 (B)毒氣 (C)原子彈 (D)潛艇。



(B)16.西方歷史上的某一場會議起初充滿了偉大的理想主義，期望以「民族自決」方式解決民族衝突問題，最終卻在充滿心機的政治鬥爭中敗陣下來，為滿目瘡痍的戰後局勢再添危機。請問：這應該是指哪一場會議？(A)三級會議 (B)巴黎和會 (C)維也納會議 (D)大陸會議。

(D)17.當一九三〇年代歐美各國經歷經濟大恐慌時，這個國家卻因為實施計畫經濟而將衝擊降到最低，使得資本主義國家開始檢討原有的經濟制度，甚至出現「別人的月亮比較圓」的心態。請問：上述透過計畫經濟，一躍成為經濟強國的國家位於附圖中的何處？



(A)甲 (B)乙 (C)丙 (D)丁。

(D)18.第一次世界大戰後，國際聯盟未能發揮維持和平與緩和國際衝突的功能。德、義兩國紛紛走向極權政治，關於德、義極權政治形成的背景與發展，下列敘述何者有誤？(A)領導人皆提出反共理念 (B)皆成立一黨專政的體制 (C)皆與國內經濟困頓有關 (D)皆為第一次世界大戰戰敗國。

(C)19.經濟大恐慌是發生在第一次世界大戰之後的經濟局勢，當時各國大多受到影響，致使內部經濟衰退、物價通膨嚴重、失業率不斷攀升。面對蕭條的經濟情勢，美國總統提出「新政」作為因應。請問：下列哪一個選項是羅斯福推行「新政」的政策內容？(A)發動對其他國家侵略，掠奪他國資源 (B)實行計畫經濟，國家統籌整體經濟發展，再分配給人民 (C)興建大型公共建設，藉以增加就業機會，刺激民間消費投資 (D)主張政府什麼都不要做，經濟自然會好轉。

(B)20.許多歷史學家喜歡針對阿道夫·希特勒的生平進行研究，甚至就他的成長背景與心理狀態去討論。對於希特勒事蹟的相關敘述，下列何者與歷史事實是一致的？(A)嚴格捍衛《凡爾賽條約》，並與共產黨合作打擊異己 (B)崛起於國家經濟困頓、社會動盪的局勢下 (C)所屬政黨透過軍事力量取得政治權力 (D)政治上推行兩黨政治，經濟上採取計畫經濟政策。

## 地理科

### 一、單選題

(C)21.「醜蔬果」指樣貌醜陋，或形狀、大小、外貌等不符合盤商收購條件的農作物，也稱為「NG 蔬果」。這些醜蔬果其實才是順應氣候、不使用農藥的農作真實樣貌，只能由農民自行吸收成本。如果身為消費者，能主動購買這些醜蔬果可以帶來何種影響？(A)將提高國外進口水果的關稅 (B)醜蔬果將成為本國主要的出口農產品 (C)可強化對在地有機農業的支持 (D)減緩國內農業的競爭。

(D)22.«2024 六都電競爭霸戰»將於7月5日正式點燃戰火，目前率先公佈參賽的隊伍名單。下列哪一隊的隊名由於不屬於六都的地名，而可能失去參賽資格？(A)府

城總舖師 (B)鹽埕劊子手 (C)北屯松鼠隊 (D)民雄五劍客。

(B)23.RCEP於2020年11月15日以視訊方式簽署的經濟協定，以下哪一國家並非成員國？(A)南韓 (B)東帝汶 (C)紐西蘭 (D)寮國。

(D)24.透過基因改造，可以改變原有生物的特性。加拿大種植的小麥最需要哪一種對抗環境的特徵，以增加其產量？(A)抗多雨 (B)抗乾旱 (C)抗炎熱 (D)抗低溫。

(C)25. I16 手機將在美國舊金山(120°W)4月2日下午6點開始販售，屆時將引起各國的新聞大肆報導。臺灣最快在何時可透過衛星影像看到舊金山第一位買到手機幸運兒？(A)4/2 凌晨2點 (B)4/2 晚上10點 (C)4/3 早上10點 (D)4/3 晚上10點。

(C)26.鑫瑞是15歲的國三男生，家中成員有爺爺(66歲)、奶奶(62歲)、爸爸(41歲)、媽媽(39歲)、弟弟(12歲)。下列關於鑫瑞家的人口組成敘述何者正確？(A)家庭性別比小於100 (B)家有2位老年人口 (C)有4人為壯年人口 (D)家庭扶養比為67%。

(A)27.新臺幣千元大鈔上的「玉山薊」，經中興大學研究發現，其實是臺灣特有種「塔塔加薊」。造成臺灣生物特有種比例較高的原因為何？(A)四面環海 (B)北回歸線通過 (C)海陸交界處 (D)暖濕的氣候。

(B)28.崙背、崙頂等地名都來自於當地的自然環境景觀，這些地區在自然環境的共通點為下列何者？(A)曲折多良港的岬灣 (B)強風多沙 (C)地形高聳崎嶇 (D)潮溼多雨。

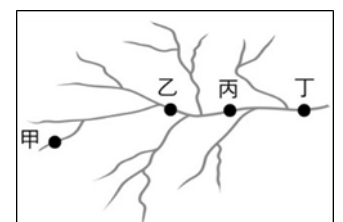
(A)29.臺灣鐵路的分布不及公路普遍，主要原因為何？(A)適應地形能力較差 (B)運輸速度緩慢 (C)載運量較小 (D)較適合短程運輸。

(D)30.南韓以稻作為主，石鍋拌飯、紫菜包飯等都是常見的主食，中國華北則以麵食為主。造成上述地區農作差異的最主要原因為何？(A)緯度高低 (B)盛行風向 (C)平原位置 (D)降水多寡。

(D)31.«下列何者是中國次高階梯與最低階梯的分界線？(A)秦嶺 (B)崑崙山 (C)小興安嶺 (D)太行山。

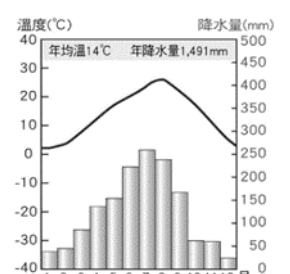
(A)32.若在右圖的乙地建設一座水庫，下列敘述何者正確？

- (A)丁地泥沙堆積量會減少
- (B)丙地建攔沙壩可減緩水庫泥沙淤積量
- (C)乙地設置水力發電廠屬於綠色能源
- (D)甲地河水流量會減少。



(B)33.中國的西部經濟帶與其它經濟帶相較，具備下列哪一種發展的優勢條件？(A)鄰近已開發國家 (B)天然資源豐富 (C)著名僑鄉，引進外資方便 (D)中國矽谷的所在地。

(C)34.右圖是朝鮮半島某地的氣圖，觀察右圖可知朝鮮半島乾、雨季分



明。導致此氣候特徵的主因為何？(A)山多平原少 (B)位居中高緯度 (C)季風風向(D)寒流流經沿岸。

- (A)35.由於北韓多年來在蓋馬高原的核試驗場進行多次試驗，輻射物質可能已經經由地下水與河流擴散至中國。」上述中的河川最可能是以下何者？(A)圖們江 (B)烏蘇里江 (C)黑龍江 (D)松花江。
- (D)36.電影《鋼鐵雨：深潛行動》的劇情是假設有三個國家(美國、北韓和南韓)的領導人被綁架入北韓核子潛艦，想要嫁禍給中國，讓潛艦在北韓、南韓與中國之間的鄰近水域被擊沉。若以地理位置來看，此一劇情設定所在的海域應是下列何者？(A)東海 (B)俄霍次克海 (C)日本海 (D)黃海。

## 二、題組

(一)依據以下圖二為台灣離島分佈圖來回答問題：

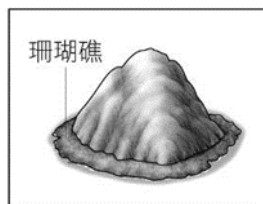


第一站 綠島監獄巡禮：  
看看「大哥的最後一站」，  
如何禁錮許多渴望自由的靈魂

第二站 看海泡溫泉：  
浸潤在世界少有的海底溫泉中，  
看著廣闊無際的海，  
體會自由的可貴

圖三

- (C)37.某旅行社今天暑假主打圖三中所描述的台灣某離島觀光行程，此島嶼應位於圖二中何處？(A)丙 (B)丁 (C)戊 (D)己。
- (A)38.臺灣除本島外，周圍還有許多離島，圖二中哪一島嶼的形成的原因與其他三者不同？(A)甲 (B)丙 (C)丁 (D)戊。
- (C)39.澎湖用水量約為每日 3 萬噸，由於水資源受到地形及氣候特性限制，供水來源以海水淡化占約 50%為主，其次為地下水及水井淡化、水庫。《澎湖紀略》一書中就記載了澎湖地區的用水狀況，該群島應位於圖二中何處？(A)甲 (B)乙 (C)丙 (D)丁。
- (C)40.圖二中哪一離島上有天然的奇景「花瓶石」是觀光客必遊及攝影留念的地方，且該島的成因為右圖所示相同？(A)甲 (B)丁 (C)己 (D)庚。



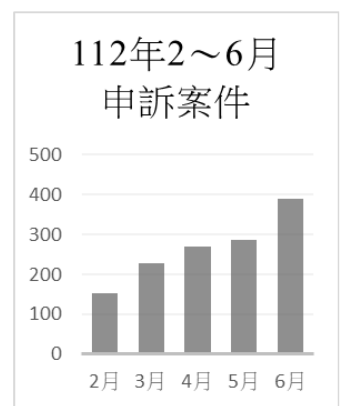
## 公民科

### 一、單選題

- (B)41.刑事警察局宣佈破獲國內最大的盜版影音網站「楓林網」，利用境外的雲端服務放置盜版影片內容，提供免費臺劇、陸劇、韓劇、日劇或歐美影視內容，提供不特定民眾觀看，並利用網路廣告點擊率賺取不法利益，不法獲利至少台幣 10 億元。請問：警方積極執法維護了人民哪項權利？(A)參政權 (B)自由權 (C)平

等權 (D)受益權。

- (B)42.請問下列敘述何者符合著作權法中明定的「合理使用範圍」？(甲)恩恩下載許多流行歌曲，在自己經營的早午餐店播放 (乙)阿寶為進行公益募款而播放相關活動影片 (丙)軒軒講授課程時，影印了他人著作中的一頁當課堂講義 (丁)阿承在自己的部落格文章中使用他人作品，且未標明出處 (A)甲乙 (B)乙丙 (C)丙丁 (D)甲丁。
- (A)43.「巧克力奴隸：美味是非洲童工流血賣命換來！雀巢、好時挨告奴役兒童」，迄今仍有數百萬貧困孩童被迫從事高工時、非人道的粗重工作，每位童工一週薪資大約是 9 美元(新台幣 280 元)，他們採收的可可最後會流入西方各國，讓許多知名食品大廠製作成巧克力。對此，國際組織「國際權利倡導者」經調查後揭發此事並提出告訴，要求改用非童工採收的可可。關於上述組織的行動，下列敘述何者最為適當？(A)非政府組織有助於維護人權 (B)國際組織無法監督各國人權情形 (C)國際事務皆由非政府組織處理 (D)非政府組織在國際社會影響薄弱。
- (D)44.「當美式飲食文化擴散到世界各地，改變了許多國家人們的飲食習慣食，韓國泡菜、日本壽司、臺灣小籠包也傳輸到其他國家，提供外國民眾不同的飲食選擇。」上述內容最可能在討論下列哪項議題？(A)產品的跨國運輸消耗更多資源 (B)跨國企業為生產地創造就業機會 (C)強權國家主導世界局勢 (D)文化全球化與多元化。
- (B)45.臺灣於 2002 年加入世界貿易組織(WTO)後，對國內經濟帶來哪幾項影響？(甲)市場擴大，有益於拓展對外貿易 (乙)面臨國際產品的強烈競爭 (丙)更能保護國內傳統產業 (丁)進口產品增加，導致產品價格全面飆升 (A)1 項 (B)2 項 (C)3 項 (D)4 項。
- (A)46. 西元 2023 年初，立法院修法通過《性侵害犯罪防治法》第 13 條規定，要求網路業者有義務下架性侵害嫌疑事件的相關影像紀錄，並提供給檢警機關調查使用。修法三讀通過後，政府部門申訴案件大量上升，同時成功要求業者移除影像的比例也提高。下列敘述何者符合題文中的描述？(A)法律有助於創造更安全的網路使用環境 (B)公權力要求移除已侵害網路上的言論自由 (C)提供資料給檢警機關已侵害使用者的隱私 (D)申訴案件增加反映我國社會風氣過於保守。
- (D)47.某制度在 1988 年由荷蘭 Max Havelaar 基金會支援墨西哥咖啡農而誕生，經研究顯示，此項制度能改善農民的生活環境、提高家戶食物的攝取，小孩因家庭收入穩定而獲得更好的教育機會。有關此制度的分析，哪項是正確的？(A)農民生活環境獲得改善是因立法舉辦文化交流 (B)此項制度應是世界衛生組織對跨國



疾病的防治 (C)商品認證是因符合品質優良、價格低廉的標準 (D)該制度成功是因為消費者認同應保障勞動人權。

(B)48.下表為我國參與不同國際組織所使用的名稱，下列哪項國家的組成要素，是導致我國無法以中華民國參與國際組織的關鍵？(A)領土 (B)主權 (C)人民 (D)政府

組織	名稱
世界貿易組織	臺澎金馬個別關稅領域
亞太經濟合作會議	中華臺北
奧林匹克委員會	中華臺北

(B)49.某漫畫家授權網友以「標示姓名—非商業性—禁止改作」的原則使用他的人物創作，讓該人物成為廣受歡迎的大頭貼，甚至成為許多產品的代言人。從上述兩個實例可看出哪項「創用CC」的精神？(A)藉由法律來維護創作者的市場利益 (B)促使著作成果流通上可兼顧私益與公益 (C)創作者加強法律保障經濟與名譽的利益 (D)創作者全面無償授權。

(D)50.新聞媒體對於總統談話應該要進行報導，但對於市井小民的意見也應該要適時採訪，給予表達意見的機會。請問：上述說明閱聽人應該有何種權益？(A)平等權 (B)言論自由權 (C)受益權 (D)媒體接近使用權。

## 二、題組

(一)慈善團體樂施會指出，世界最有錢富豪的財富從2020年的4,050億美元，增加至2023年的8,690億美元，而自2020年來，世界各地將近50億人變得更貧窮。□□□問題日益惡化，經濟得益大部分落在已開發國家身上。樂施會在世界各地以務實及創新的方法，協助貧窮人改善生活及持續發展，提供緊急救援並協助災民恢復生計，以改善本地及全球的扶貧政策。

(C)51.上述□□□應為下列何者？(A)反全球化下的跨國犯罪 (B)環境保護與永續發展 (C)全球化下的貧富差距 (D)國際移工面臨的文化困境。

(B)52.請問：樂施會是基於下列何種理念而成立？(A)落實環境保育 (B)維護基本人權 (C)提升國際地位 (D)強化跨國貿易。

(二)外交部表示為維護國家主權和尊嚴，決定中斷與諾魯共和國的外交關係，並指出中國對諾魯的利誘未曾停歇，諾魯現任總統哈里斯常以「中國牌」向我施壓，經多方溝通，今為捍衛我國家利益與尊嚴，爰決定終止與諾魯之外交關係，以表明我政府嚴正立場。面對中國打壓並封殺我國國際生存空間，中華民國政府與人民自當以更堅定之決心與務實之態度，繼續開拓國際空間，維護我國家權益及人民福祉，絕不輕言退縮。

(C)53.根據上文判斷我國目前在國際上的地位如何？(A)中共承認臺灣是主權獨立國家，為兩岸創造雙贏的格局。(B)建立正式外交是我國提升國際能見度的唯一途徑。(C)受一個中國政策影響處處受打壓。(D)金援外交是我國唯一能爭取國際地位的作法。

(D)54.為改善我國的外交處境，下列何種作法最合適？(A)無限增加外交部金援預算 (B)推動兩岸簽署停戰協議 (C)等待西方強權國家援助 (D)積極與各國建立良善關係。

(三)國際刑警組織目前是僅次於聯合國的第二大國際組織。該組織旨在保障並促進世界上不同的警察機構間互相幫忙，在犯罪國際化日趨嚴重的情勢下，國際社會的每個成員都應該要努力維護世界的安全。南韓議員在西元2021年11月公開表示，臺灣曾在2018年與南韓合作破獲從泰國走私的112公斤冰毒案例，但自西元1984年中國加入國際刑警組織後，臺灣已經被拒絕參與國際刑警組織長達37年。南韓議員更強調排除臺灣參與國際刑警組織對恐怖主義、非法毒品、電話詐騙、網路詐騙等全球化犯罪毫無幫助，因此呼籲為了韓國國民的生命安全乃至預防世界犯罪，請支持讓臺灣獲得國際刑警組織的觀察員資格。

(B)55.上文中畫底線部分主要在說明國際社會互動的哪一項重要性？(A)國際援助 (B)國際合作 (C)國際戰爭 (D)國際衝突。

(C)56.國際刑警組織的成立是各國為了因應日益猖獗的跨國犯罪問題，已需各國組成國際組織共同制訂政策來處理，此彰顯出全球化的哪個面向？(A)文化全球化 (B)經濟全球化 (C)政治全球化 (D)環境全球化。

(A)57.國際刑警組織屬於哪種類型的國際組織？(A)全球性、政府的 (B)全球性、非政府的 (C)區域性、政府的 (D)區域性、非政府的。

(D)58.有關國際政府組織與國際非政府組織的比較，下列何者錯誤？(A)政府的國際組織較非政府的國際組織更具強制力 (B)非政府的國際組織可彌補政府的國際組織之不足與限制 (C)非政府的國際組織能發揮更為積極與多元的功能 (D)國際政府組織主要是解決單一國家的政治問題。

(五)臺北車站售票大廳的「黑白棋」地板空間廣闊，加上交通方便的因素，每到週末都會有許多移工席地而坐在此聚會。近日適逢伊斯蘭教的開齋節，全臺各地信奉伊斯蘭教的穆斯林移工都來到臺北車站，聚集在大廳中慶祝開齋節，擠得大廳水洩不通，附表是兩家媒體在頭版上對此事件的報導標題：

天天日報	慶祝開齋節！各地移工齊聚臺北車站大廳，熱鬧非凡
每天時報	有礙觀瞻！移工聚集臺北車站大廳吵鬧、製造髒亂，影響乘客權益

(D)59.文中提到的兩家媒體都在頭版刊登移工聚集臺北車站的消息，但內容不同，反映媒體的何種角色？

(A)提供訊息 (B)教育民眾 (C)促成輿論 (D)設定議題  
(C)60.從報導的標題來看，反映媒體何種問題？(A)不實訊息 (B)置入性行銷 (C)隱藏歧視 (D)監督不力。