

桃園市立武漢國中 111 學年度第二學期第 1 次段考 社會科 九年級補考題庫

命題教師：張月霞、何家儀、魏君玫

範圍：第一次段考試題 (讀卡)

____年____班____號 姓名：

一、單一選擇題

歷史題

「這是個最好的時代，這也是一個最壞的時代。」狄更斯用這樣充滿矛盾的語氣來形容法國大革命；這是因為法國大革命的影響十分深遠，所帶來的破壞也十分可觀。請問：公民題

- () 1. 法國大革命之所以發生，是因為路易十六無法解決當時法國國內的哪一項問題？ (A) 軍人當政，貪汙腐敗 (B) 天災不斷，救災不力 (C) 連年戰爭，財政困難 (D) 國內教士與貴族的叛亂。
- () 2. 承上題，當時法王曾召開會議來解決問題。請問：下列哪一個人的說法與這場會議的史實不符？ (A) 教士：「我們三百人共同屬於第一階級。」 (B) 平民：「我們的人數最多，票數也最多。」 (C) 貴族：「我們不必納稅，所以贊成加稅。」 (D) 國王：「政府負債沉重，所以召開三級會議來解決。」
- () 3. 下列哪一事件正式揭開法國大革命的序幕？ (A) 滑鐵盧戰役 (B) 拿破崙崛起 (C) 羅伯斯比實施恐怖統治 (D) 人民攻陷巴士底監獄。
- () 4. 下列哪一事件的發生，可以說是代表了保守勢力的勝利，使革命的勢力受到壓制？ (A) 路易十六被殺 (B) 羅伯斯比上斷頭臺 (C) 《人權宣言》的發表 (D) 拿破崙兵敗滑鐵盧

「工作並不累人，但我必須在沒有亮光的情況下值班……有時，心情愉快時就唱歌，但在黑暗中，我不敢唱……有時，清晨上班時，我非常想睡……我希望上學，不想待在煤礦裡。」這是一個八歲小女孩的描述，也是工業革命後造成的問題。請問：

- () 5. 工業革命的發生，與殖民地的發展有很大的關係。請問：殖民地對於工業革命有何重要的影響？ (A) 提供充分的資金 (B) 海上航運更加便利 (C) 可引進大量的黑奴 (D) 可提供豐富的原料與廣大的市場。
- () 6. 工業革命最早是從哪一個行業開始發生？ (A) 棉紡織業 (B) 服務業 (C) 食品加工業 (D) 農業。
- () 7. 貧富差距拉大、勞工階級生活困苦等資本主義的弊端，最後促使何者興起，成為日後共產主義的根源？ (A) 社會主義 (B) 民主主義 (C) 封建體制 (D) 帝國主義。

在研究臺灣歷史時，必須對日本的歷史有一些基本的認識，因為日本對臺灣的歷史發展有重要的影響。請回答下列有關日本歷史的問題：

- () 8. 日本明治維新後即向外擴張，為了爭奪何處的利益而先後與中國與俄國開戰？ (A) 臺灣與澎湖 (B) 琉球與山東 (C) 福建與上海 (D) 朝鮮與東北。
- () 9. 日本在明治維新之後成為亞洲列強，開始向外侵略；其所獲得的第一個殖民地是下列何者？ (A) 香港 (B) 朝鮮 (C) 印度 (D) 臺灣。

俊哥在一本西洋史的專書中看到了以下的文字記載：「一個種族為了生存必須具備侵略性，如同進化論一般，各物種為了生存而不停地鬥爭，弱小物種和種族的消亡、滅絕貫穿了歷史。白種人是最偉大的人種，是因為他們具有優越感和征服欲。白人在有些地方征服了野蠻人，在另一些地方則乾脆將弱小的種族滅絕。故從『適者生存』的觀點來看，創造了輝煌西方文明的白人才配生存及宰制這個世界。」請問：

- () 10. 上述文字記載的內容，是十九世紀流行於歐洲的哪種思潮？ (A) 馬克斯主義 (B) 浪漫主義 (C) 社會達爾文主義 (D) 資本主義。
- () 11. 帝國主義者對非洲的侵略可說是以鯨吞的方式瓜分了非洲國家的主權，然而，有兩個國家卻能幸運的維持獨立。除了衣索比亞外，還有哪個國家？ (A) 利比亞 (B) 埃及 (C) 馬達加斯加 (D) 賴比瑞亞。
- () 12. 帝國主義是一種優越心態，意欲以武力占領他國為殖民地，或對他國實行經濟剝削、政治霸權。歷史上帝國主義的興起，主要發生在十六世紀及十九世紀時。下列關於舊、新帝國主義的敘述，何者正確？ (A) 舊帝國主義的形成背景是工業革命，新帝國主義則是地理大發現 (B) 舊帝國主義國家打破弱國閉關自守的狀態，中、日被迫簽訂不平等條約 (C) 德、比、美、義、日等國都是十九世紀新興的帝國主義國家 (D) 舊帝國主義時代重要的國際衝突是日俄戰爭的爆發。

第一次世界大戰前，殖民侵略的行動已經造成彼此間的利益衝突，在爭奪殖民地被視為是一種爭取「國家榮譽」的情形下，歐洲國家除了發展自己的軍事力量外，同時四處尋求結盟，最後形成了同盟國與協約國兩大對立陣營。請問：

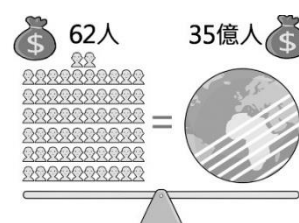
- () 13. 有關第一次世界大戰的敘述，下列何者錯誤？ (A) 義大利在戰爭期間倒向協約國 (B) 俄國在 1917 年因為發生革命而退出戰場 (C) 同盟國與協約國雙方在西線的戰事陷入膠著 (D) 德國採用「無限制潛艇政策」導致英國參戰。
- () 14. 第一次世界大戰後，原來受奧國統治的捷克、受俄國統治的芬蘭，均獲得獨立。這是巴黎和會中哪一項原則的實現？ (A) 報復原則 (B) 民族自決原則 (C) 戰敗國割地原則 (D) 國聯武力制裁原則。

戰間期，世界各地的政治、經濟、社會和文化產生極大的變動。請問：

- () 15. 第一次世界大戰結束之初，美國對歐洲的外交政策是 (A) 孤立主義 (B) 姑息主義 (C) 門戶開放政策 (D) 武力干涉政策。
- () 16. 第一次世界大戰後，造成世界性的經濟大恐慌是由於各國實行哪一政策？ (A) 重商主義 (B) 睦鄰政策 (C) 關稅保護政策 (D) 閉關自守政策。
- () 17. 當時美國總統羅斯福推動大型公共工程，刺激經濟來挽救此危機。請問？ (A) 新經濟政策 (B) 新政 (C) 新法 (D) 新計畫經濟。

公民題

- () 18. 在經濟在分工的過程中，讓什麼降到最低，可得到最大的利益？ (A) 機會成本 (B) 設備成本 (C) 產出數量 (D) 工作時數
- () 19. 有「自行車王國」之稱的臺灣，自行車行銷全世界，在全球業界有一定的影響力。良好的產品品質也帶來可觀的出口營收。從經濟學觀點來看，臺灣生產自行車，在國際間具有競爭力的原因為何？ (A) 價格全球最低 (B) 人力成本較低 (C) 機會成本較高 (D) 機會成本較低。
- () 20. 下圖為現今社會所面臨到的困境，請問最有可能是什麼相關議題？ (A) 高齡社會日益普及



- (B)勞動人權侵害問題
- (C)全球貧富差距拉大
- (D)新興家庭型態產生

- ()21.「公平貿易生活節」是由臺灣公平貿易推廣協會與臺北市政府合作舉辦，倡導在消費過程中達到「友善消費者、友善生產者、友善環境」的理念，呼籲消費者多購買右列「公平貿易認證」的產品，以幫助世界上的弱勢勞工脫困。上述「公平貿易認證」所代表的意義為何？
- (A)具認證產品代表與北市府有直接合作，凡臺北市民購買將享有優惠 (B)表示該產品原料符合優良食品標準，價格低廉、品質佳 (C)確保每個國家都能販賣咖啡，促進咖啡平等貿易管道的暢通 (D)重視勞動人權，幫助原料提供者的發展，並使其得到較合理的報酬。
- ()22.歐盟為了讓歐洲的半導體製造產業維持競爭力，並做到 OOOO，提出「歐洲晶片法案」，共同創造先進的歐洲晶片製造「生態系統」，以避免過度依賴亞洲及美國晶片市場所受的傷害。上文的 OOOO 最適合填入以下哪一個概念？
- (A)市場壟斷 (B)自給自足 (C)提高成本 (D)縮短貧富差距。
- ()23.就國際貿易、產業分工而言，一國應出口下列何種產品，才比較有利可圖？
- (A)機會成本最高的產品
(B)機會成本較他國為高的產品
(C)機會成本較他國為低的產品
(D)機會成本固定不變的產品。
- ()24.我國加入世界貿易組織雖然可以享受自由貿易帶來的好處，但國內產業亦受創極大。其中受衝擊最大者當屬【甲】產業。例如：稻米將面臨進口的重大變化。請問【甲】應是下列何種產業？
- (A)農業 (B)電子業 (C)礦業 (D)資訊業。
- ()25.威爾森獨自住在深山裡，他一小時可以徒手捕獲 3 條魚，同樣的時間則可徒手抓到 15 尾溪蝦。請問：威爾森捕獲 1 條魚的機會成本為何？
- (A)0，在深山裡自給自足，因此無機會成本
(B)0，魚與溪蝦為每日必需，毫無選擇餘地
(C)捕 1 條魚的代價，就是放棄抓 15 尾溪蝦
(D)捕 1 條魚的代價，就是不能得到 5 尾溪蝦。
- ()26.傳統社會的生活方式通常是自給自足，現代社會則是透過交易來滿足生活所需為主。關於上述兩者的差異與演變，下列敘述何者**錯誤**？
- (A)傳統社會的物質需求單純，自給自足即可滿足
(B)現代社會的民眾利用貨幣作為交易媒介滿足日常生活所需
(C)民眾之間進行交易的主要原因是可以藉此降低成本
(D)民眾自行生產所有生活物品的相對支付成本比較低。
- ()27.國際分工與貿易是經濟全球化的展現，下列關於甲國和乙國進行貿易的推論，何者較為正確？
- (A)甲國若從乙國進口玉米，通常表示乙國生產玉米的機會成本較高
(B)甲國若從乙國進口玉米，通常表示甲國的玉米價格比乙國來得低
(C)甲國若出口小麥至乙國，通常表示甲國生產小麥的機會成本較低
(D)甲國若出口小麥至乙國，通常表示甲國的小麥價格比乙國來得高。
- ()28.暖化現象日益嚴重，南極大陸最新高溫紀錄達 18.3



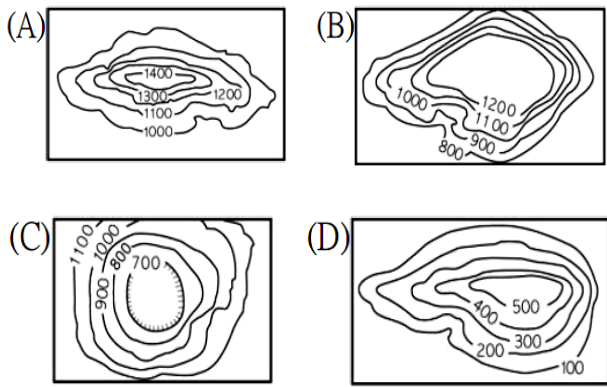
°C。世界氣象組織聲明：「這是南極暖化速度比全球平均快的證據。」因此，許多國家積極商討如何應對暖化情況，共同簽署協議，達成減少溫室氣體排放的共識。根據上述內容判斷，下列推論何者較為適當？ (A)該組織研究顯示，觀光客的激增是造成南極冰融加快的主因 (B)目前尚無任何危急之處，故不須採取任何方式因應 (C)經濟全球化的利益導向，應該可以緩解跨國的氣候暖化問題 (D)全球暖化危機，透過國際間政治上的合作或許可以延緩暖化的趨勢。

- ()29.跨國企業為了降低生產成本，將產品外包到世界某個不為人知的角落去製造，以低薪剝削當地的勞工，換取商品的低廉價格。請問什麼方法可以協助改善上述的問題？
- (A)抵制跨國企業投 (B)強制標示生產地
(C)購買本國製造的商品 (D)購買公平貿易認證商品。
- ()30.近日我國政府積極申請加入 CPTPP(跨太平洋夥伴全面進步協定)，希望透過國際組織增進與夥伴國家的貿易往來，降低彼此間的關稅障礙，不過國內市場及相關政策也必須受該組織決議的限制。上述說明了何種現象？
- (A)經濟全球化 (B)文化全球化
(C)政治全球化 (D)供需平衡
- ()31.若某國同時具備從事多項產業的能力，則該國應該把生產資源應用在「相對較具效率」的產品上。上述有關「相對較具效率」的說明，下列何者正確？
- (A)該國應從事銷貨收入高的產業
(B)該國應選擇機會成本低的產業
(C)該國應選擇生產產量高的產業
(D)該國應從事生產單價高的產業。
- ()32.開放外國商品進口，對進口國的生產者而言，可能會產生一些影響。下列關於進口國生產者的敘述，何者最正確？
- (A)採用此項商品為原料的生產者面臨成本上升
(B)國內同類型產品的生產者銷售量通常會增加
(C)生產者可能會將生產線移至工資較高的國家
(D)生產者通常會採取調降售價的競爭方式。
- ()33.阿布跟玲玲一天的生產量如右圖所示。請問誰在編織衣服上具有絕對優勢？
- | 人物 | 阿布 | 玲玲 |
|------------|----|----|
| 編織衣服 (件/天) | 2 | 1 |
| 採果 (公斤/天) | 3 | 5 |
- (A)阿布 (B)玲玲
(C)兩人都有絕對優勢
(D)沒有一方有絕對優勢
- ()34.請問誰在採果方面有絕對優勢？
- (A)阿布 (B)玲玲 (C)兩人都有絕對優勢
(D)沒有一方有絕對優勢

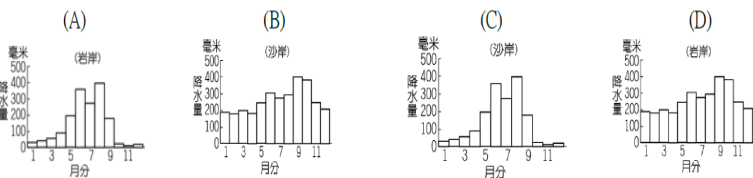
地理題

- ()35.臺灣有許多由荷蘭人與西班牙人留下富貴角、三貂角等地名，根據地名所代表的海岸地形特徵判斷，這些地名最有可能出現在臺灣哪一個區域內的海岸附近？
- (A)東部 (B)西部 (C)南部 (D)北部
- ()36.下列哪一個縣市地名的來源與當地族群文化有關，最有可能是源於原住民語？
- (A)嘉義 (B)基隆 (C)金門 (D)臺中
- ()37.咸豐六年，苗栗一人於觀音山附近高地受困，他人

援救後，見東方低地四面環山成一盆地，平原中茅草花齊放，微風吹過處，起伏如湖面波浪狀，故命名為「大湖」，這一名稱沿用迄今。依據上文判斷，「大湖」一名源自於下列何種地形？

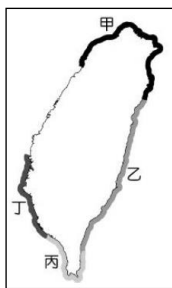


- () 38. 「地名是一地居民透過對環境的認識，愈是微觀尺度的地名，愈與在地人群的生活密切相關。」請問：下列哪一個縣市「壠」、「屋」、「窩」為名的地名出現次數最少？(A) 桃園市 (B) 新竹縣 (C) 臺南市 (D) 苗栗縣
- () 39. 臺灣○○縣境內北有濁水溪，西有清水溪，東側環山，地勢險要，又是通往東臺灣及八通關古道的交通要道。」請問：上文中的○○縣 應是下列何者？(A) 花蓮縣 (B) 宜蘭縣 (C) 屏東縣 (D) 雲林縣
- () 40. 臺灣某行政區內出現許多如：鹽埕、鹽埕埔等，與傳統晒鹽、製鹽產業有關的地名。請問：下列何者最可能是該行政區所在的氣候條件？



- () 41. 烏來位於新北市烏來區，相傳三百多年前，該族族人狩獵至此，發現南勢溪冒出熱水與輕煙，齊呼「Kiluh ulay」，意為冒煙的熱水，這就是烏來地名的由來。請問：當地主要的原住民族群為何？(A) 泰雅族 (B) 賽夏族 (C) 排灣族 (D) 噶瑪蘭族
- () 42. 承上題，烏來所在地最可能屬於下列哪一座山脈？(A) 中央山脈 (B) 玉山山脈 (C) 雪山山脈 (D) 阿里山山脈
- () 43. 烏來當地所指稱「冒出熱水與輕煙」的溪流應是指哪一流域？(A) 高屏溪 (B) 濁水溪 (C) 淡水河 (D) 秀姑巒溪

() 44. 臺灣最早在古書中曾被記為「大員」，當時大員附近的地理環境最可能位於右圖何處？

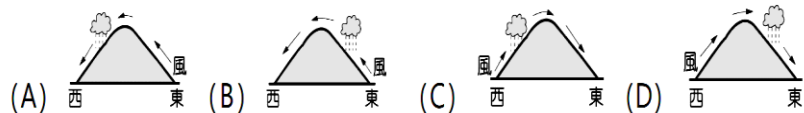


- (A) 甲 (B) 乙 (C) 丙 (D) 丁。
- () 45. 小明看見一個地址寫著「宜蘭縣冬山鄉中興路 111 號」，請問該住址的組成與下列哪一個命名來源最無關？

- (A) 政治意識 (B) 皇帝賜名 (C) 自然環境 (D) 原住民語。
- () 46. 紐約（英語 New York）意為「新約克」約克則是英國一處地名。當地來自英國約克郡的新移民們為了紀念當時的約克公爵，故得此名。請問：下列哪一個台灣地名，與紐約地名由來最相似？

(A) 竹崎 (B) 雙溪 (C) 潮州 (D) 樟腦寮

() 47. 哪一張圖最能顯示臺灣冬季時主要的降雨模式？



() 48. 新竹縣峨眉鄉乍聽之下名字似乎來自中國四川峨眉，但此地的峨眉地名實際上來自於「月眉」一詞，而月眉指的是河流蜿蜒如「眉毛一般的彎月形」，臺灣各地均有此種地形名稱。請問：該地名由來與下列何地類似？

(A) 鹽埕 (B) 馬公 (C) 崁頂 (D) 竹圍

() 49. 位於高雄的鳥松區原始地名為蔦松腳庄，因昔日有一棵高大茂盛之雀榕樹木，「榕」台語又稱「松」；又因為樹上棲息著白頭翁鳥，故取其名為「鳥松」。下列哪一個地名與其有相似的命名依據？

(A) 羅東 (B) 茄苳 (C) 大溪 (D) 三重埔

() 50. 附圖為屏東縣縣徽，其縣徽形狀是圓形，有鵝鑾鼻燈塔及大武山的圖騰。請問縣徽中的大武山應屬於下列哪一山脈的範圍？



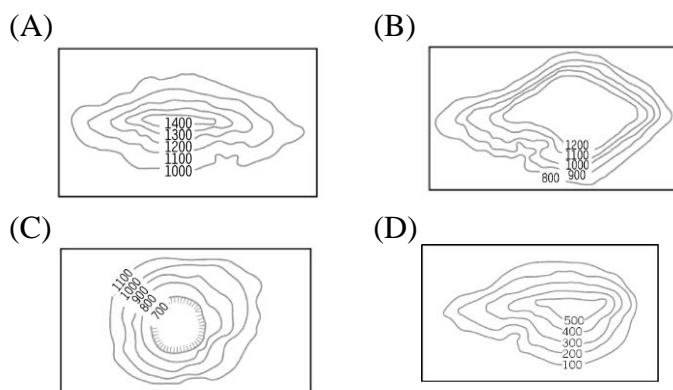
(A) 中央山脈 (B) 海岸山脈

(C) 雪山山脈 (D) 阿里山山脈

() 51. 承上題，縣徽中的燈塔應位於哪一海岸附近？

(A) 南海 (B) 太平洋 (C) 巴士海峽 (D) 台灣海峽

() 52. 臺灣人口分布深受自然環境的影響，下列四種等高線地形圖中，人口密度較高的是哪一種？



九年級歷史科補考試題

1. C 2. B 3. D 4. D 5. D

6. A 7. A 8. A 9. D 10. C

11. D 12. C 13. D 14. B 15. A

16. C 17. B

九年級公民科補考試題

18. A 19. D 20. C 21. D 22. B

23. C 24. A 25. D 26. D 27. C

28. D 29. D 30. C 31. B 32. D

33. A 34. B

九年級地理科補考試題

35. D 36. B 37. C 38. C 39. D

40. C 41. A 42. C 43. C 44. D

45. B 46. C 47. B 48. C 49. B

50. A 51. C 52. C