

命題教師：社會科教師 範圍：社會第六冊 歷地公第一、二章 年 班 號姓名：_____

一、選擇題：(前 20 題每題 3 分，21~30 題每題 4 分)

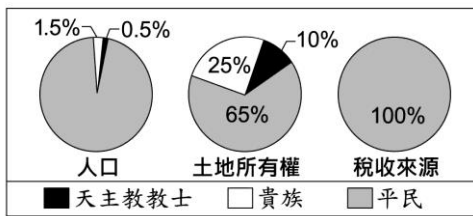
- (C) 嘉義民雄舊稱打貓，清帝國前期被哪一縣所管轄？(A) 台灣縣 (B) 鳳山縣 (C) 諸羅縣 (D) 安平縣。
- (A) 臺灣本島隨著不同時期有各種名稱，大員地名主要來自於平埔族社的讀音影響，所以哪一時期的統治者稱此地為「Tayovan」，即為大員的地名由來？(A) 荷蘭人在臺時期 (B) 鄭氏政權時期 (C) 清帝國時期 (D) 日治時期。
- (D) 下列哪一個臺灣的地名，盛產菸葉，閩南語發音再經雅化而形成？(A) 暖暖 (B) 松山 (C) 麥寮 (D) 芬園。
- (B) 2022 年的縣、市長選舉活動即將開跑，直轄市與各縣黨派的候選人已如火如荼的展開準備，下列哪一地區不屬於縣、市長選舉的範圍？(A) 高雄市 (B) 屏東市 (C) 台東縣 (D) 臺中市。
- (C) 崙為小丘可作為阻擋當地的強風，容易發展成為聚落。它主要阻擋下列何種強風？(A) ↖ (B) ↗ (C) ↙ (D) ↘。
- (A) 臺灣的地名非常多元，其命名以下列哪一因素最多？(A) 自然環境 (B) 地緣關係 (C) 維生方式 (D) 土地拓墾。
- (B) 苗栗大湖的地形是一片大的河谷盆地，客家語的「湖」具有盆地之意，下列何地的命名原因與其相同？(A) 松山 (B) 崙背 (C) 六龜 (D) 荊桐。
- (C) 下列關於臺灣名稱由來的描述，何者正確？(A) 大員此名稱與日本人有關 (B) 歐美出版地圖上標註著高砂國 (C) 日本稱此地為東番 (D) 臺灣是清帝國正式的行政區名。
- (A) 「溪底寮」是臺灣常見的聚落名稱，源於早期民眾利用河川枯水期在乾涸河床從事開墾，並在該地搭建簡單的工作寮房。根據以上描述，以地名最可能出現在以下哪一縣市？(A) 台南 (B) 台北 (C) 桃園 (D) 宜蘭。
- (D) 庭秀到新竹縣的員嶼山神社參訪，所到之處都感到新鮮並將遊記寫在日記中，以下有關她的紀錄何者正確？(A) 此地區多沙岸地形 (B) 地名由來是因當地的氣候寒冷乾燥 (C) 放眼所見當地多甘蔗園 (D) 當地居民的原鄉大多為廣東省。
- (A) 19 世紀後期，美國駐廈門領事李仙得來臺處理美籍船難事故，同時他也蒐集到關於臺灣地名的資訊，其中哪一個敘述較為合理？(A) 台灣一詞可能是臺窩灣社轉音而成 (B) 用臺灣來稱呼此地已是當時全世界的共識 (C) 大員一詞是荷蘭人用荷語音譯而來 (D) 此時臺灣一詞指的是台北淡水一帶。
- (D) 臺中水滴經貿園區目前成為一新興開發基地，不可望在未來幾年成為臺中更有活力的生活圈。關於當地的敘述，何者正確？(A) 位於河流轉灣之處 (B) 湖泊或盆地的所在地 (C) 其為山崖或河階地 (D) 過去可能地勢低窪、土地泥濘。

- (B) 臺灣的很多地名會以當地的地形命名。新北的石門反映出當地的何種地形？(A) 火山 (B) 海蝕 (C) 河積 (D) 斷層。
- (C) 下列哪一個地名，其由來動物相關？(A) 苓雅 (B) 鵝鑾鼻 (C) 蚵寮 (D) 茄荖腳。
- (A) 臺灣有許多與舊式製糖廠「糖廍」有關的地名，如「廍子」等。下列哪一地區會出現最多這類的地名？(A) 嘉南平原 (B) 台北盆地 (C) 苗栗丘陵 (D) 蘭陽平原。
- (C) 工業革命後，生產力大幅提升，下列何者是主要原因？(A) 人力與機械動力結合 (B) 人力取代機械動力 (C) 機械動力取代人力 (D) 獸力取代人力。
- (B) 十八世紀晚期的交通革新開始出現，火車取代馬車、汽船取代帆船。這種提供新型態動力的產物為下列何者？(A) 紡織機 (B) 蒸汽機 (C) 燃煤機 (D) 水力發電機。
- (A) 工業革命是影響近代世界相當重要的人類里程碑，影響直至今日。工業革命帶來不少進步與發展，但也產生帶來不少負面效應。請問：下列何者是工業革命產生的不良發展？(A) 城市聚集大量人口，產生嚴重的都市問題 (B) 因為產品生產過快，導致海外殖民地市場萎縮 (C) 社會主義思想的出現，讓貧窮工人受到剝削 (D) 機器生產對資本家傷害甚大，導致工廠紛紛倒閉。
- (D) 十九世紀的馬克思共產主義學說與小說家狄更斯寫實主義作品，對當時人們的思想有極大的影響力，下列何者最可能是二人在學說及作品上的主要共同點？(A) 支持歐洲帝國主義在各地殖民擴張 (B) 強調個人情感抒發與崇拜英雄事蹟 (C) 對法西斯政權的專制作為表示質疑 (D) 對工業革命下的歐洲社會提出反省。
- (A) 「印花稅」主要是對所有印刷品直接徵稅，包含報紙、執照等都要加貼印花，也是英國政府打算於北美殖民地加徵的新稅。但殖民地人民卻認為「無代表，不納稅」因而抗議。請問：這場抗議最終導致哪一起事件發生？(A) 美國獨立 (B) 法國大革命 (C) 拿破崙戰爭 (D) 英格蘭與愛爾蘭合併。
- (B) 廣恩恩在玩「刺客教條」遊戲時，遇到了以下故事情節：西元 1773 年 5 月《茶稅法》通過，此後，英屬東印度公司在北美十三州能以更低價格出售茶葉，因此許多茶葉進口商的利益嚴重受損。此法案引發不少抗議者喬裝成印地安人，將一箱箱茶葉丟進海中。他若扮演當時北美十三州的居民，他在遊戲中的臺詞有可能是下列何者？(A) 大英帝國是我們的希望 (B) 沒有代表怎能徵稅 (C) 反對革命即反對自由 (D) 支持正統即支持秩序。
- (C) 每年的 7 月 4 日是美國國慶日，這個日子是為了紀念下列哪一件史事？(A) 英國移民船登陸北美大陸 (B) 美國第一任總統依據憲法就職 (C) 殖

民地代表發表《獨立宣言》 (D) 哥倫布抵達美洲大陸。

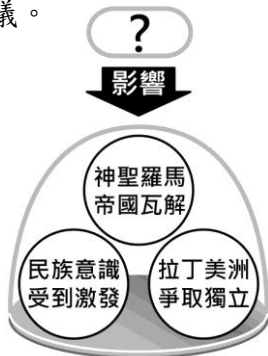
23. (D) 某個國家的憲法內容明訂以三權分立、相互制衡的制度建立政府，而此部憲法也是世界上的第一部成文憲法。請問：制定此憲法的國家為下列何者？
 (A) 英國 (B) 法國 (C) 德國 (D) 美國。

24. (B) 右圖呈現某事件前夕，當地的社會情況。此事件最可能是下列何者？
 (A) 美國獨立



- (B) 法國大革命 (C) 德意志帝國的建立
 (D) 拉丁美洲爭取獨立。
25. (A) 楊儉的法國網友對他說：「7月14日是法國國慶日，這個日子是揭開法國大革命的日子，也是慶祝法蘭西共和國自由、平等、博愛價值的神聖日子」請問：法國國慶日的制定與哪一事件相關？
 (A) 巴士底監獄被攻陷 (B) 處死路易十六 (C) 拿破崙打敗反法聯軍 (D) 召開三級會議。

26. (C) 904 歷史小老師使用右圖向同學講解某一史事所造成的影響，圖中的「？」最可能是下列哪一史事？
 (A) 美國獨立戰爭 (B) 英國光榮革命
 (C) 拿破崙向外擴張 (D) 俾斯麥推動國家統一。



27. (B) 十九世紀的歐洲，曾一度被保守主義壟罩。請問：當時歐洲保守主義盛行的原因為何？
 (A) 拿破崙統一歐洲 (B) 維也納會議恢復各國王室統治權
 (C) 維也納會議未能落實正統原則 (D) 首相梅特涅信奉自由原則。
28. (B) 他是中南美洲富裕的地主階級，但因當地殖民政府壟斷資源及晉升機會，他最終選擇反抗殖民母國，並帶領中南美洲走向獨立。被稱做「拉丁美洲的革命家」。請問：上述文字所描寫的對象為下列何者？
 (A) 門羅 (B) 玻利瓦 (C) 拿破崙
 (D) 俾斯麥。

29. (C) 義大利統一過程中得力於許多勢力的協助，曾有一人將其奮力奪得的土地交給薩丁尼亞國王，是義大利統一的關鍵之一。請問：上述的「某人」應為何者？
 (A) 馬志尼 (B) 加富爾 (C) 加里波底 (D) 俾斯麥。
30. (B) 學者以十九世紀的拉丁美洲、德意志、義大利等地的政治史進行比較與研究，最後可歸結出這三個地區都是下列哪一種思想蓬勃發展的區域？
 (A) 自由主義 (B) 民族主義 (C) 保守主義
 (D) 社會主義。

31. (C) 請問若要幫下圖加上的旁白文字，何者最為恰當？



- (A) 面對面的互動減少人與人之間的衝突 (B) 交通運輸工具使每個城市的距離拉近 (C) 資訊科技讓世界各地訊息流通更快速 (D) 電腦輔助教學使學生學習更有效率。

32. (B) 根據下圖內容，可顯示出何種問題？

- (A) 資訊公開可能侵犯個人隱私 (B) 資訊氾濫造成內容真偽難辨
 (C) 網路的新聞自由應該被保護 (D) 網路中的人際互動倫理須建立。




33. (B) 請問下面陳列的三個主題，最有可能在探討何者？

- ◆青少年可透過兒少發聲平臺，提出對社會議題的建議。
- ◆一群高中生推動「菸沒綠洲」計畫，透過社群媒體號召同儕響應淨街行動。
- ◆政府召開「國高中上課時間」公聽會，上百位學生線上參與，提供意見與討論。

- (A) 應以傳播媒體漸漸取代學校教育 (B) 學生如何運用科技參與公共事務 (C) 幫助青少年遠離成長帶來的壓力 (D) 政府建立資訊查證系統的重要性。

34. (D) 請問右側報導中，不小心被汙漬塗黑的部分應為下列何項法律？



- (A) 《智慧財產法》
 (B) 《民法》 (C) 《著作權法》
 (D) 《專利法》。

35. (B) 我國立法規範智慧財產權的目的為何？
 (甲) 強調企業的貢獻 (乙) 達到公共利益 (丙) 使所有權人獲得權益的保障 (丁) 鼓勵發明與創作
 (A) 甲乙丙 (B) 乙丙丁 (C) 甲乙丁
 (D) 甲丙丁。

36. (D) 請問下列社會事件的報導，凸顯了下列何者的重要？

如何避免衛生紙之亂再起

前陣子，一則訊息在社群通訊軟體中快速傳遞，內容是說明口罩與衛生紙的製作原料相同，當政府極力生產口罩之時，衛生紙、紙巾等衛生類紙製品將面臨短缺。民眾為此開始瘋狂搶購，商品一上架即刻銷售一空，價格也因此水漲船高。政府為遏止亂象，不停宣導此為假訊息，希望民眾查證事實，不要輕信網路謠言…

- (A) 資訊科技 (B) 媒體接近使用權
 (C) 醫療保健 (D) 媒體識讀能力。

37. (D) 孜孜創作了一首歌曲，發表在網路上，請問有關此創作的敘述，何者正確？
 (A) 此項權利稱為專利權 (B) 網路上發表的作品都沒有保障期限
 (C) 作品完成後開始計算 50 年的保障期限

- (D) 此項創作不需要特別向政府申請登記。
38. (C) 休閒零食市場競爭激烈，日、韓商品琳瑯滿目，一家老字號廠商捨棄原有包裝，將果凍盒的外裝盒設計成如同傳統裝水果的紙箱，創意的包裝手法，獲得許多消費者的青睞。請問上述業者的做法，下列敘述何者正確？ (A) 結合外國廠商資源，拓展國際市場 (B) 企業轉換經營模式，進行產業升級 (C) 傳統產業發揮創意，增加產品競爭力 (D) 調整商品價格，建立品牌形象。
39. (A) 過去人類對疾病、病毒無法治療，因此常為疾病所苦，甚至喪失生命；而今日的人類壽命延長，大部分疾病已被創造的各式疫苗控制。疫苗的研發屬於下列哪一種科技的範疇？ (A) 生物科技 (B) 資訊科技 (C) 航太科技 (D) 環保科技。
40. (A) 過去的跨國貿易活動並不像現今如此頻繁，造成此現象最有可能的改變原因為何？ (A) 運輸科技發展對全球貿易的影響 (B) 勞工權益保護與法律修訂的爭議 (C) 政治體制對立引發全球貿易大戰 (D) 國家對企業紓困的輔導方案剖析。
41. (A) 請問下圖中，兩人對話所提及的法律，應是指下列何法？ (A) 《著作權法》 (B) 《商標法》 (C) 《專利法》 (D) 《社會秩序維護法》。
42. (D) 近年來，海洋資源已開始面臨耗竭的危機。探究其根源，與科技發展有密切關係：從罐頭、冷凍技術的發明，漁船、漁具的更新，科學化的漁撈方式，都使魚群數目急速減少。但是消費者卻很難察覺，只是疑惑為何魚愈來愈貴。請問根據上文敘述，下列何者正確？ (A) 氣候變遷對海洋環境的破壞 (B) 冷凍技術的發明增加了成本 (C) 漁撈技術的進步使漁民失業 (D) 過度運用科技引發資源耗竭。
43. (C) 附圖的對話內容顯示資訊科技發達造成了下列何種隱憂？ (A) 媒體成為傳播腥羶色的管道 (B) 資訊公開可能侵犯個人隱私 (C) 訊息未經查證卻廣為留傳 (D) 新聞倫理的專業度漸為提升。
44. (C) 根據右圖判斷，下列說明何項正確？ (A) 人與人之間的互動衝突將與日俱增 (B) 政府部門應負起禁止虛擬科技的責任 (C) 人類的互動模式因科技發展而改變 (D) 民眾線上參與反應較實體參與為佳。
45. (C) 企業在世界各地設立工廠或分公司，稱之為跨國企業。跨國分工經營型態最主要具有下列何項優

勢？

- (A) 降低溫室效應 (B) 擴展國內市場 (C) 降低生產成本 (D) 節省產品包裝。

這部電影很好看，我決定用手機錄下來，放在網路上讓人付費下載。

你這樣做是違反法律的行為。



很多政論節目都在談論某位知名議員疑似收受賄款的新聞。

沒經過求證的事情，不知是真是假？



轉寄 列印 分享

國際知名品牌半導體公司在一場線上發表會中，以合成的虛擬電子替身和背景取代真實的演講人，在線的聆聽者並未發現任何異樣。相信未來這樣的技術日益純熟，在電影中由虛擬影像與我們日常互動的情節可能已經不遠了。