

公民 一、單選題

- (C) 1. 十四歲的阿美因羨慕同學擁有最新款的 Apple 手機，於是趁店員不注意將新款手機偷走，結果被店內其他顧客撞見，受害店家因而報警處理。根據上述內容判斷，阿美最有可能受到下列何種處罰？(A)罰金三萬元 (B)拘役三十天 (C)假日生活輔導五次 (D)罰鍰二萬元
- (C) 2. 新北市中和警局接獲民眾報案，指女兒在家中吸毒，請求警方協助。該父親向警方表示，會選擇大義滅親就是希望孩子可以遠離毒品的危害。請問：該父親的行為，屬於下列何者？(A)自首 (B)自訴 (C)告訴 (D)公訴。
- (B) 3. 承上題，該名吸毒犯的行為已觸犯何項法律？(A)組織犯罪防制條例 (B)毒品危害防制條例 (C)社會秩序維護法 (D)行政法
- (D) 4. 均有介紹自己在法院中所擔任的工作職權：「我的職權是衡量雙方提出來的證據，擔任公平裁判的角色。」請根據上述內容判斷，下列何者最有可能是均有的工作事項？(A)訴訟中為當事人辯護 (B)在法庭中記錄訴訟的過程 (C)對犯罪嫌疑人提起公訴 (D)審理債務糾紛。
- (B) 5. 「某男子將住家前方的私人土地用來停放車輛，一年前巷子兩側繪製的禁停紅線，從此男子遭檢舉違規停車，短短兩個月接到 10 張罰單，經訴願後仍不服結果，因此，他提出訴訟，桃園□□□□審理後認為，車雖然停在紅線內，但車體大部分停在私有土地裡，也沒有影響其他車輛通行，判決撤銷罰單。」根據內容，□□□□應指下列何者？(A)市政府 (B)地方法院 (C)高等法院 (D)高等行政法院。
- (D) 6. 某大學生在未取得授權或是任何同意的情況下，將國內外當紅歌手之熱門歌曲上傳至個人網站提供他人下載，這個舉動不久即遭到檢舉，經檢調單位起訴並判決確定該生已違反著作權法。請問：此大學生的行為所涉及的法律責任，何者正確？(A)為鼓勵藝文交流，屬合理使用 (B)已觸犯刑法 (C)依少年事件處理法處理 (D)須負起民事及刑事責任。
- (B) 7. 新北市某高三生購買了空拍機，但因不熟法規規定而在禁航區進行非法空拍，違反了《民用航空法》而遭到主管機關開罰。遭開罰者「所應負起之責任類型」與「權利救濟方式」的搭配，下列何者正確？(A)行政責任，提出請願 (B)行政責任，提起訴願 (C)刑事責任，提起訴訟 (D)刑事責任，聲請調解。
- (B) 8. 十五歲的胖虎打架鬧事樣樣來，時常進出法院。現在為了恐嚇取財的案件而受審，法官認為必須給予他最重的保護處分，好好矯正他的不良習性。請問最重的保護處分為下列何者？(A)安置輔導 (B)感化教育 (C)保護管束 (D)訓誡。

- (C) 9. 英綺蒐集了許多社會紛爭事件的資料，將其分類後，結果如下表所示。請根據表中資料判斷，下列說明何者正確？(A)檢察官應主動進行偵查的件數共 37 件 (B)應由行政法院進行訴訟審理的件數共 52 件 (C)當事人可聲請調解委員會調解的件數共 70 件 (D)可經由和解方式直接解決的件數共 87 件。

民事案件	50 件
告訴乃論刑事案件	20 件
非告訴乃論刑事案件	15 件
行政案件	2 件

- (A) 10. 鄭浩參加主題與刑事案件有關的密室逃脫活動，其最終須依我國現行法律判斷，將四個線索依刑事案件處理的先後順序排列，才可破關。請問：正確的順序應該為下列何者？(A)甲、乙、丁、丙 (B)丁、甲、乙、丙 (C)甲、丁、乙、丙 (D)乙、甲、丙、丁。

線索	內容
甲他因涉嫌殺人被提起公訴，該如何面對接下來.....
乙歷經多次開庭，地方法院的法官即將作出判決.....
丙只剩這個機會，法院能否推翻先前判決還他清白.....
丁雖然已決定上訴，但對於未來的結果並沒有把握.....

二、題組

- (一)某國中魏姓女學生與沈姓女學生帶著兩名同班友人在學校附近的公園談判，未料雙方疑似談判破裂，沈女其中一陳姓女友人竟趁著人多勢眾，朝魏打了兩巴掌，相關行徑被人拍攝 P0 網，被打女同學家長報警提告。
- (C) 11. 請問：打魏姓女學生的國中生會交由什麼法律處理？(A)刑法 (B)兒童及少年福利與權益保障法 (C)少年事件處理法 (D)組織犯罪防制條例。
- (B) 12. 該名國中生所犯的罪屬於三年以下的普通傷害罪，根據法律規定，將依何種方式處理？(A)少年刑事案件 (B)少年保護事件 (C)行政案件 (D)民事案件。
- (D) 13. 承上題，其將面臨下列何種處分？(A)有期徒刑 (B)罰金 (C)罰鍰 (D)保護管束。
- (D) 14. 考量到國中生有時思慮不周，因而觸犯法律，為了給予青少年反省自新的機會，青少年犯罪案件的調查、審理原則上是由哪個單位管轄？(A)地方法院 (B)社會局 (C)行政法院 (D)少年法院(庭)。
- (A) 15. 受害魏同學的家長報警處理。請問：其到警局報案稱為什麼？(A)告訴 (B)自訴 (C)公訴 (D)自首。

(二)名偵探柯南是陪伴每個小朋友長大的卡通，其中怪盜基德是個充滿傳奇色彩的夜盜，專門以藝術品(特別是寶石)為目標。

- (B)16.請問：怪盜基德觸犯了什麼罪？(A)恐嚇取財罪 (B)竊盜罪 (C)搶奪罪 (D)強盜罪。
- (B)17.承上題，未成年的基德被移送法辦之後，法官考量其犯後態度良好，於是命少年保護官告知基德應遵守事項，且保持聯絡，並施以輔導。請問法官是給基德什麼處分？(A)安置輔導 (B)保護管束 (C)假日生活輔導 (D)訓誡。

(三)新竹縣一名陳姓消防員竟利用職務之便，偷抄報案16歲少女的電話，接著用簡訊騷擾，逼迫對方見面，在車內性侵得逞，導致少女身心受創，短短2年輕生16次，最終於2020年2月不幸輕生身亡，全案進入司法程序中。

- (C)18.請問：陳姓消防員將被依何罪起訴？(A)妨害風化罪 (B)內亂罪 (C)妨害性自主罪 (D)公然侮辱罪。
- (C)19.承上題，如判刑確定後，陳姓消防員將負起何種責任？(A)行政責任 (B)民事責任 (C)刑事責任 (D)以上皆非。
- (D)20.由於該罪最重本刑為十年以下有期徒刑，如果陳姓消防員認為判刑過重，最高可上訴到哪個法院？(A)地方法院 (B)高等法院 (C)高等行政法院 (D)最高法院。

歷史 二、單選題

◎「十年建設」期間，國民政府積極從事各項建設工作，其對國力的培養是值得肯定的。請問：

- (C)(1)所謂的「十年建設」，是指國民政府在下列哪兩次事件之間所進行的建設？(A)復辟事件、護法運動 (B)辛亥革命、二次革命 (C)北伐完成、抗戰爆發 (D)五四運動、寧漢分裂。
- (B)(2)若根據孫文的《建國大綱》，題幹所述的時期屬於國家建設的哪個階段？(A)軍政時期 (B)訓政時期 (C)憲政時期 (D)法政時期。
- (D)(3)十年建設期間，小安代表南京政府與英、美代表交涉，他可能完成下列哪項重要的外交協議？(A)取消所有不平等條約 (B)同意英、美等國來華設立領事館 (C)與英、美建立軍事同盟 (D)取回關稅自主權。

◎張學良活了一百歲，國民黨與共產黨對他的評價大為不同。國民黨認為他是千古罪人，共產黨則認為他是民族英雄。

- (D)(4)造成上述評價兩極化的主要因素為何？(A)張學良在北伐期間自稱東北王，威脅到蔣中正的地位 (B)張學良在抗日期間協助日軍在中國成立偽政權 (C)張學良在北伐期間向蔣中正投降 (D)張學良在西安事變中的表現。
- (D)(5)張學良的故鄉東北遭受到侵略，以致於東北軍顛沛流離，就如同歌謠『長城謠』中所唱道：「…長城外是故鄉，高粱肥、大豆香……自從大難平地起……苦難當…」。請問：下列哪一事件與其故鄉被侵略有關？(A)七七事變 (B)一二八事變 (C)西安事變 (D)九一八事變。

◎民初的新文化運動對中國產生莫大影響，新思潮的引入，促成了中國共產主義的萌芽，中國共產黨於是成立。請問：

- (D)(6)下列關於中國共產黨的敘述，何者錯誤？(A)成立於上海 (B)國民黨員中有人親共，曾與中共合作，使得共產勢力更加擴大 (C)在北伐期間，與國民黨發生衝突 (D)在美國的扶植下成立。
- (D)(7)在1924年1月的中國國民黨第一次全國代表大會上，國民黨正式確立了「聯俄容共」政策。採取聯俄容共政策，與共產黨建立良好關係的原因為何？(A)結合共產主義與資本主義的理想 (B)被共黨的惡勢力所逼迫 (C)展現國民黨廣闊的胸懷 (D)希望獲得外國勢力的援助。

◎在八年抗戰期間，列強曾召開多次國際會議，這些會議對中國產生了或好或壞的影響。請回答下列問題：

- (A)(8)列強同意取消在中國的特權，並於民國三十二年與中國訂立平等新約，使中國擺脫了百年來不平等條約的束縛。近代中國第一個不平等條約是下列何者？(A)南京條約 (B)北京條約 (C)馬關條約 (D)辛丑和約
- (C)(9)美國為了儘早結束對日本的戰爭，企圖爭取蘇聯出兵對日作戰。當時美、英、蘇三國領袖出席某場國際會議，但美國卻在中國缺席的情形下，犧牲了中國的權益。上述國際會議的舉行地點為何？(A)開羅 (B)雅加達 (C)雅爾達 (D)華盛頓。

◎電視劇播出「中國演義：北伐除軍閥」節目，內容為國民革命軍北伐過程的描述。

- (A)(10)下列哪項史事與打倒軍閥、統一全國有最密切的關係？(A)創辦黃埔陸軍軍官學校 (B)組織護國軍 (C)組織中華革命黨 (D)孫文先生建立軍政府。
- (B)(11)琪琪在做關於民國十五年國民革命軍北伐的報告。她的哪項說明是錯誤的？(A)北伐所要討伐的主要對象是吳佩孚、孫傳芳、張作霖 (B)兩方兵力懸殊，國民革命軍的兵力約為北方軍閥的十倍 (C)當時國民革命軍的總司令是蔣中正 (D)最後奉系軍閥歸順政府，北伐結束中國得一統。

◎日本自明治維新以後，國力大增，並積極對外發動侵略，鄰近的朝鮮、中國等地遂成為其侵略的首要目標。請問：

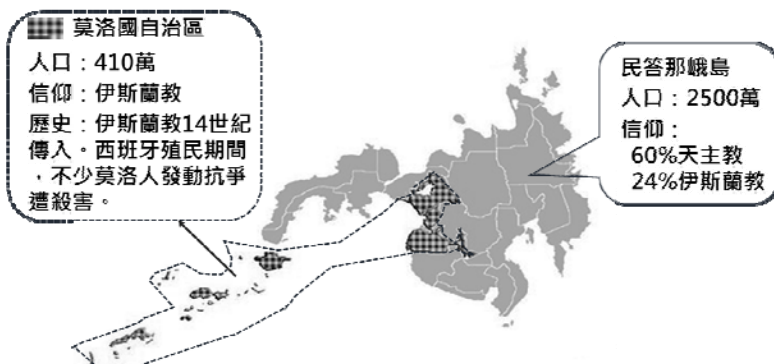
- (A)(12)對日抗戰初期，日本採速戰速決戰略，中國採何種戰略？(A)以空間換取時間 (B)堅壁清野 (C)速戰速決 (D)加入盟軍。
- (D)(13)在對日八年抗戰期間，國民政府毅然決定遷都於下列何處，以爭取對日本長期作戰的準備？(A)上海 (B)南京 (C)廣州 (D)重慶。
- (C)(14)承上題，日本在這段期間曾對中國下列哪一個城市進行殘忍的大屠殺活動？(A)北京 (B)上海 (C)南京 (D)瀋陽。
- (C)(15)中國對日抗戰八年，前四年是中國獨立與日本作戰，而與美、英並肩作戰是始自何事件爆發？(A)八一三淞滬戰爭 (B)武漢會戰 (C)太平洋戰爭 (D)七七事變。

◎文化大革命在 1981 年 6 月 27 日「中國共產黨第十一屆中央委員會第六次全體會議」一致通過的《關於建國以來黨的若干歷史問題的決議》中被正式否定，決議認為當時領導人負有責任。該決議的正式表述是：「文化大革命是一場由領導者錯誤發動，被反革命集團利用，給黨、國家和各族人民帶來嚴重災難的內亂。」請問：

- (C) (16)文化大革命的領導人士是以下何人？ (A)鄧小平 (B)胡錦濤 (C)毛澤東 (D)江澤民。
- (D) (17)當年領導人發動文化大革命的主要原因為何？ (A)隨心所欲 (B)改革開放 (C)以新替舊 (D)奪權鬥爭
- (A) (18)小說「一滴淚」的主角，曾經親身經歷過文化大革命，而他將其死裡逃生的過程，生動的以小說呈現出來。有關文化大革命對中國所造成的破壞，下列何者錯誤？ (A)外交挫敗 (B)教育停頓 (C)經濟衰退 (D)文化破壞。
- (D) (19)紅衛兵是文化大革命時期主要從事批判鬥爭的運動者，他們在全國各地發起破壞與鬥爭，使得整個中國社會陷入混亂與恐慌。請問：紅衛兵主要的組成份子為何？ (A)農民百姓 (B)教師學生 (C)政府官員 (D)青年學生。
- (A) (20) (甲)毛澤東 (乙)鄧小平 (丙)江澤民 (丁)胡錦濤，上述四人都曾擔任過中華人民共和國的國家領導人，若依掌權的先後排列，則正確的順序應為下列何組？ (A)甲、乙、丙、丁 (B)乙、甲、丁、丙 (C)甲、乙、丁、丙 (D)丙、甲、乙、丁。

地理 三、單選題

- (D) 1.酒雖作為全球重要的飲品之一，但在某些地區，因為宗教或政治等因素是禁止製酒、賣酒或是飲酒的，例如穆斯林禁止飲酒，因此在伊斯蘭世界多以法律明文禁止買賣酒類。根據前文可推知下列哪一國家的酒類消費量可能最低？ (A)南韓 (B)越南 (C)尼泊爾 (D)馬來西亞
- (D) 2.亞洲東部島國因面積狹長，地勢起伏大，河川常具有河短流急的現象。下列哪一國家不具有上述特徵？ (A)臺灣 (B)日本 (C)菲律賓 (D)馬爾地夫
- (B) 3.下為某國家南方大島的行政區與宗教信仰分布簡圖



請問此國家最有可能為？

- (A)泰國 (B)菲律賓 (C)巴基斯坦 (D)馬來西亞
- (C) 4. 「該國舊名暹羅，位於中國和印度間，為中南半島之心臟地帶，全國有 90%為佛教，觀光業為其重要產業，昭披耶河的水上市場為著名觀光景點。」上述為哪一個國家？ (A)越南 (B)泰國 (C)緬甸 (D)柬埔寨

- (C) 5.下列為四位學生為地理報告所製作海報。其中哪一張海報說明的地理現象，與該國位於環太平洋火山地震帶上的關係最為密切？



- (A) 6.泡菜是韓國著名的傳統小菜，保存期限很長，成為當地重要的食材，請問泡菜的出現與下列哪一因素關係最為密切？ (A)生長季較短 (B)雨量豐沛 (C)地形崎嶇 (D)乾季太長
- (B) 7. 2016 年某農產加工商品的世界前四大出口國，依序為印度尼西亞、馬來西亞、泰國、哥倫比亞。根據這些國家的自然環境特徵判斷，該農產加工商品最可能為下列何者？ (A)棉織品 (B)棕櫚油 (C)橄欖油 (D)黃麻製品
- (C) 8.瓦拉納西是一座有 2500 年歷史的古城，位在恆河旁是 教徒心中的聖地。眾多教徒在河中沐浴、淨身，並在河畔舉行火葬並將骨灰灑入河中，教徒相信如此靈魂就得以脫離輪迴轉世之道。此宗教為？ (A)佛教 (B)神道教 (C)印度教 (D)伊斯蘭教
- (A) 9.印度的氣候可以分為三季，如下表所示，請問表中甲乙丙依序應填入下列何者？

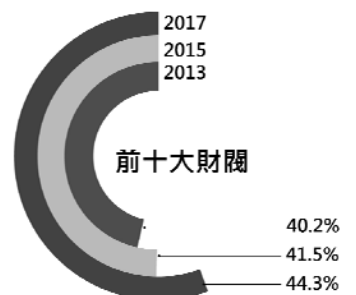
月份	1	2	3	4	5	6	7	8	9	10	11	12
季節	甲			乙			丙			甲		

- (A)涼季、熱季、雨季 (B)涼季、雨季、熱季
(C)寒季、雨季、乾季 (D)乾季、涼季、雨季
- (D) 10.下為正英在網路上看到的旅行社行程介紹，請問：

◆寶石鑑賞~最大藍寶石、唯一貓眼石都出自於此，安排參觀錫蘭珠寶，一睹英國王室愛不釋手的寶石之美。
◆茶園巡禮~除了體驗最美高山茶園火車，更安排參觀錫蘭紅茶園及製茶工廠，品嚐香純的錫蘭紅茶。
◆佛跡聖地，今生必訪~以供奉國寶釋迦牟尼的牙舍利而聞名的佛牙寺；第二大古城波羅那露瓦聖台區大型佛塔成群，展現高超藝術。

正英看到的行程最有可能為哪一國家的介紹？

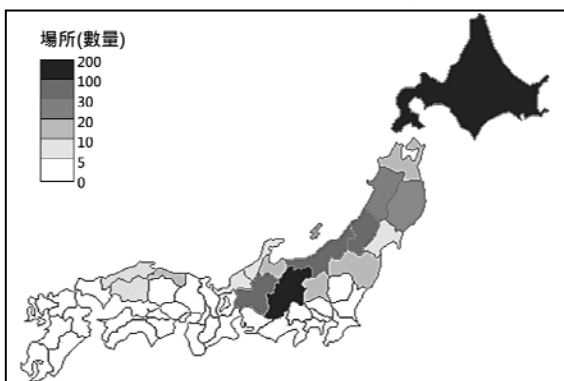
- (A)印度 (B)孟加拉 (C)馬爾地夫 (D)斯里蘭卡
- (B) 11.右圖為亞洲某國前十大財閥資產占全國 GDP 的比例，該國政府強力介入扶植大型財閥，資訊電子產業為該國的經濟強項，請問此國最有可能為？ (A)印度 (B)南韓 (C)日本 (D)泰國
- (B) 12. 永定到日本進行美食之旅，愛吃海鮮的他在日本料理店大飽口福，此時想起地理老師曾教過日本漁業資源豐富的原因，他應該想起下列何者才不會辜負老師的教導？ (A)氣候溫暖潮溼 (B)位在東亞島弧上 (C)有寒暖流交會 (D)冬夏季風風向交替。



(A) 13.由中國華北地區沿北緯 35 度線到日本，可以觀察出下列哪一現象？

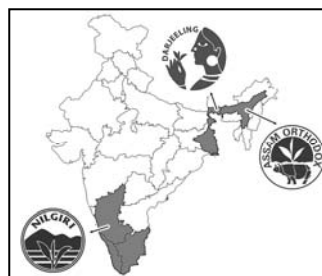


- (A) 冬季均溫有遞增現象 (B) 年溫差先減少後增加
(C) 年雨量變率越來越大 (D) 從一穫區變為二穫區
- (D) 14.下為日本冬季滑雪勝地數量統計圖，請問：



何者不是影響日本滑雪勝地數量與分布的主要因素？(A) 緯度 (B) 地形 (C) 迎風背風 (D) 距海遠近

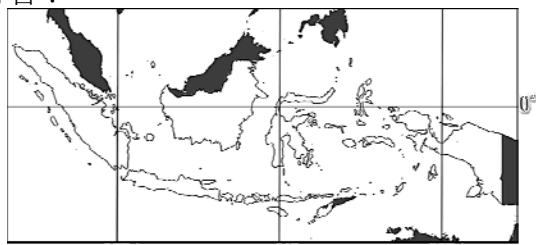
(C) 15.右圖為印度某農作物的主要產地分布圖(灰色為主要產地)，請問此農作物最有可能為？



- (A) 黃麻 (B) 棉花
(C) 茶葉 (D) 甘蔗

(A) 16.淡水資源常被視為國家重要的資產，河流的控制權常成為國際紛爭的原因。下列為國家間有水權紛爭的舉例說明，請問何者正確？(A) 中國與越南、湄公河 (B) 中國與俄羅斯、鴨綠江 (C) 印度與孟加拉、印度河 (D) 印度與巴基斯坦、恆河

(B) 17.下為印尼的國家領土簡圖，請問從此圖無法推判下列何者？



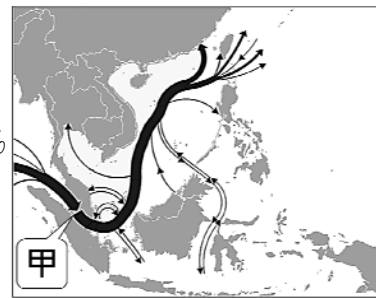
- (A) 海岸線總長度極長 (B) 夏秋之際易有颱風
(C) 主要橫跨三個時區 (D) 多為熱帶雨林氣候

(A) 18.下圖為日本工業區分布圖，請問：



造成日本重要工業區皆分布於沿海附近的主因為？
(A) 有利原料進口與產品外銷 (B) 為世界漁業大國
(C) 新幹線主要行經沿海地區 (D) 沿海平原礦產豐富

(B) 19.右圖 2016 年東南亞海上原油主要貿易運輸路線圖



2016 年此海域有超過 30% 的全球海上原油貿易量，約每天 1,500 萬桶的原油，其中 90% 以上原油需經過圖中甲海峽，甲為哪一海峽？(A) 巴士海峽 (B) 麻六甲海峽 (C) 荷莫茲海峽 (D) 直布羅陀海峽

(C) 20.日本關東平原以米飯為傳統主食，中國華北平原以麵食為傳統主食，請問造成兩地傳統主食不同的主因為何？(A) 生長季長短 (B) 年均溫高低 (C) 年雨量多寡 (D) 季風風向不同